

# Arbeitsblatt

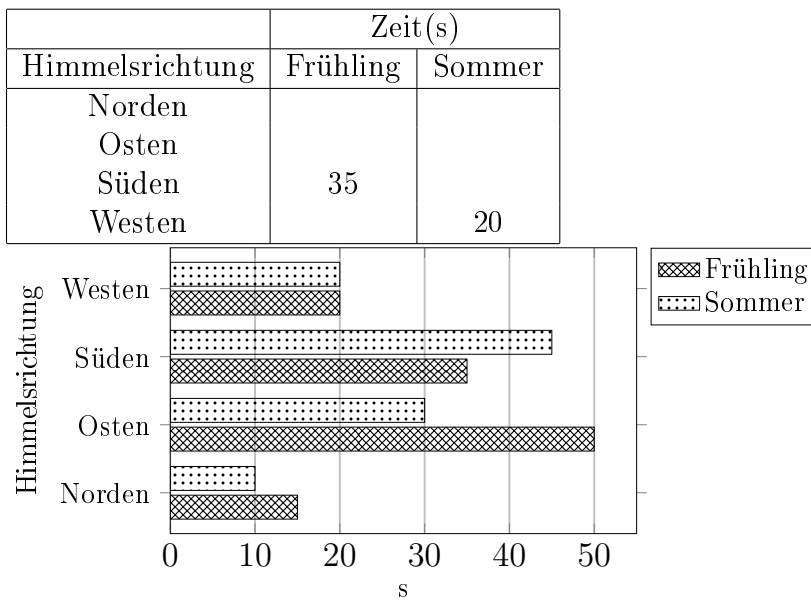
28.07.2013

Kostenlos auf [dw-aufgaben.de](http://dw-aufgaben.de)

Aufgaben-Quickname: 4977

## Aufgabe 1

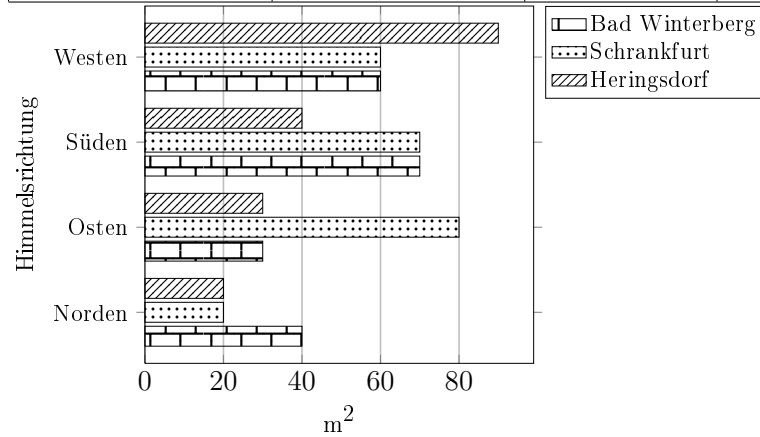
Vervollständige die Tabelle mit den Werten aus dem Diagramm.



## Aufgabe 2

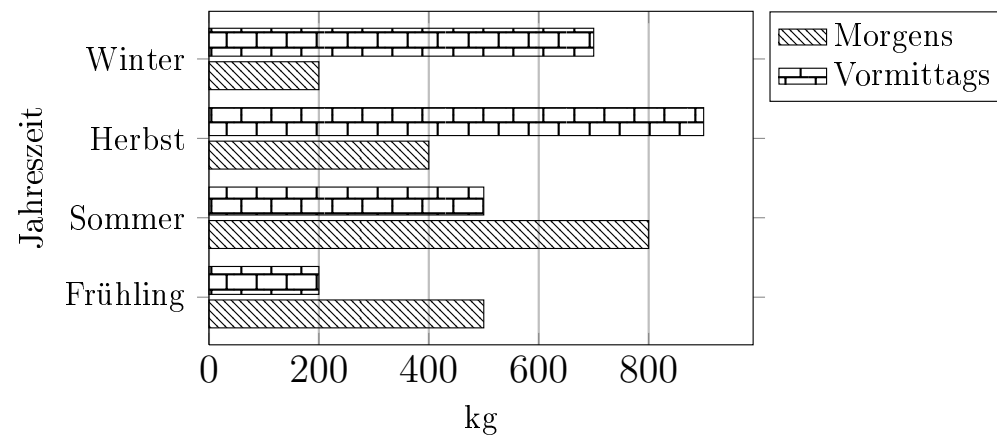
Vervollständige die Tabelle mit den Werten aus dem Diagramm.

Himmelsrichtung	Fläche(m <sup>2</sup> )		
	Bad Winterberg	Schrankfurt	Heringsdorf
Norden			
Osten			30
Süden			
Westen			



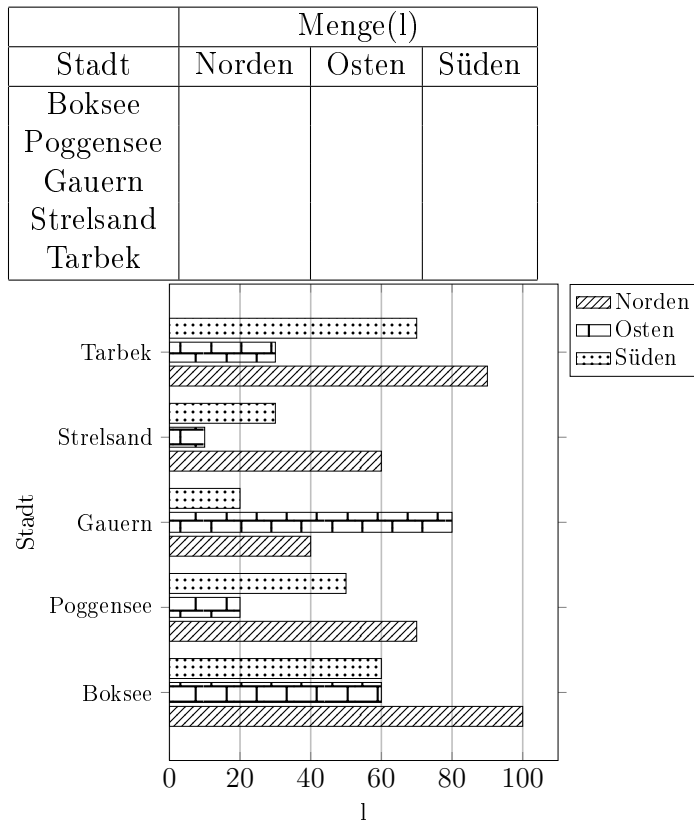
## Aufgabe 3

Erstelle zu diesem Balkendiagramm eine Tabelle mit den Werten aus dem Diagramm.



### Aufgabe 4

Vervollständige die Tabelle mit den Werten aus dem Diagramm.



Viel Erfolg!