

Arbeitsblatt

12.11.2013








Kostenlos auf dw-aufgaben.de

Aufgaben-Quickname: 5922

Aufgabe 1



Zu jeder Uhr in der oberen Reihe gibt es eine Uhr in der unteren Reihe, die die gleiche Uhrzeit anzeigt. Ordne diese Uhren richtig zu!




18:09	22:21	21:55	03:55	10:09	18:46	20:56
A	B	C	D	E	F	G

1	2	3	4	5	6	7
						

Aufgabe 2

Zu jeder Uhr in der oberen Reihe gibt es eine Uhr in der unteren Reihe, die die gleiche Uhrzeit anzeigt. Ordne diese Uhren richtig zu!

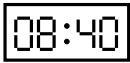
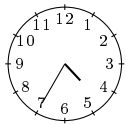
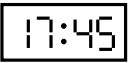
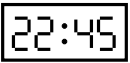
11:01	03:28			02:58
A	B	C	D	E

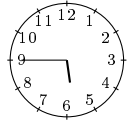
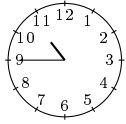
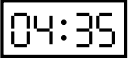
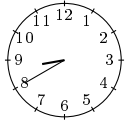
1	2	3	4	5
05:13				23:21

Aufgabe 3

Zu jeder Uhr in der oberen Reihe gibt es eine Uhr in der unteren Reihe, die die gleiche


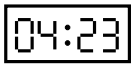
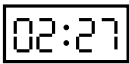
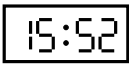


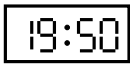
Uhrzeit anzeigt. Ordne diese Uhren richtig zu!








			
A	B	C	D

1	2	3	4
			

Aufgabe 4

Zu jeder Uhr in der oberen Reihe gibt es eine Uhr in der unteren Reihe, die die gleiche Uhrzeit anzeigt. Ordne diese Uhren richtig zu!

						
A	B	C	D	E	F	G

1	2	3	4	5	6	7
						

Viel Erfolg!