

# Arbeitsblatt

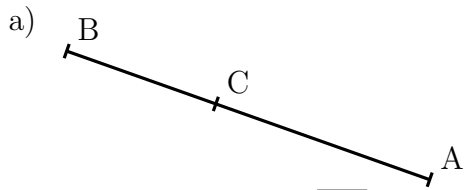
27.02.2015

Kostenlos auf [dw-aufgaben.de](http://dw-aufgaben.de)


Aufgaben-Quickname: 6273

## Aufgabe 1

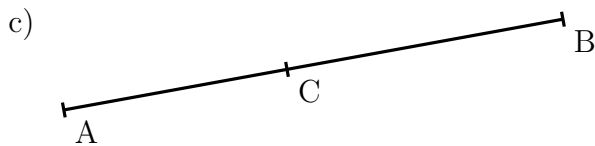
Miss die Länge der angegebenen Strecke auf einen Millimeter genau.



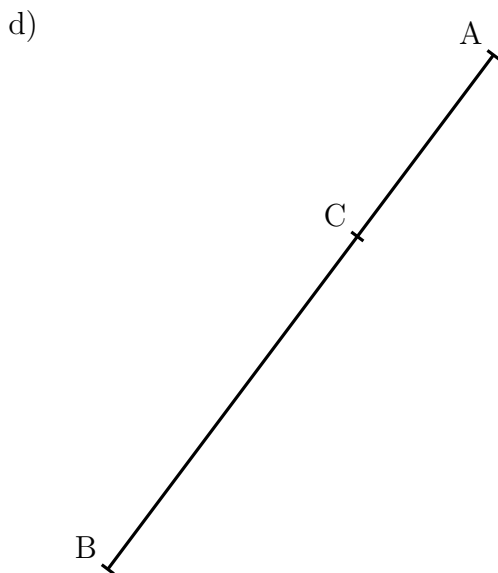
Länge der Strecke  $\overline{CB}$  :



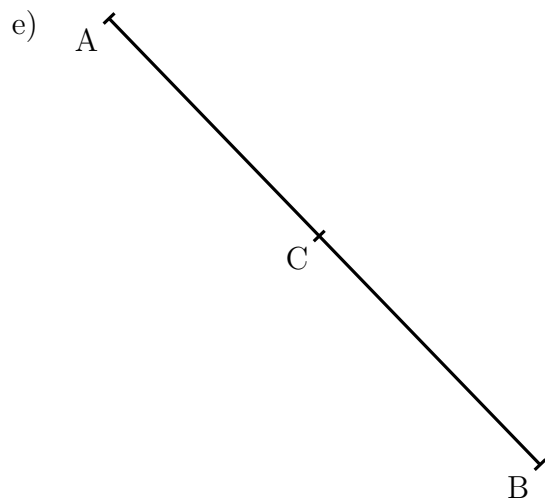
Länge der Strecke  $\overline{AC}$  :



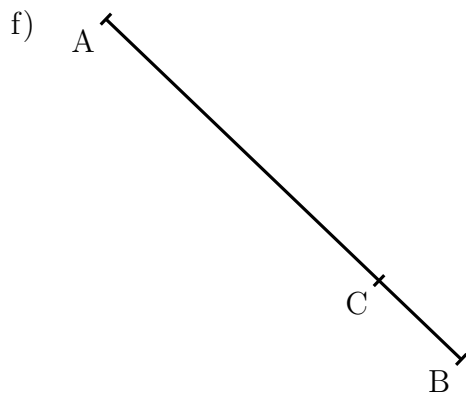
Länge der Strecke  $\overline{AC}$  :



Länge der Strecke  $\overline{AC}$  :




Länge der Strecke  $\overline{CB}$  :



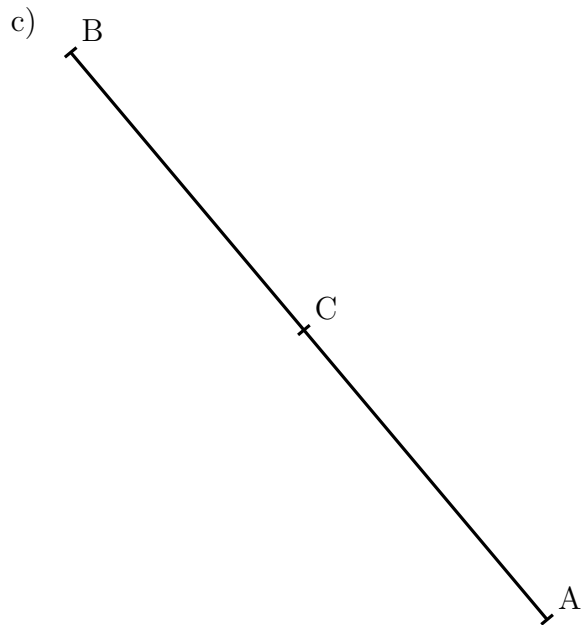
Länge der Strecke  $\overline{AC}$  :

Aufgabe 2

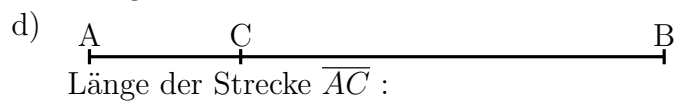
Miss die Länge der angegebenen Strecke auf einen Millimeter genau.



Länge der Strecke  $\overline{CB}$  :

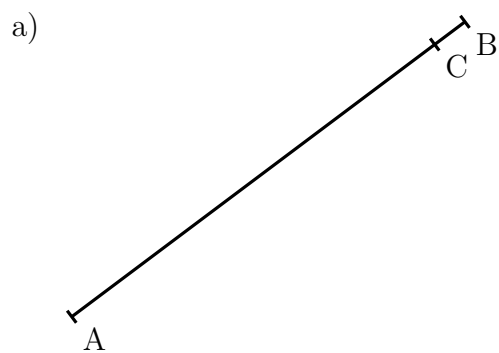


Länge der Strecke  $\overline{AC}$  :

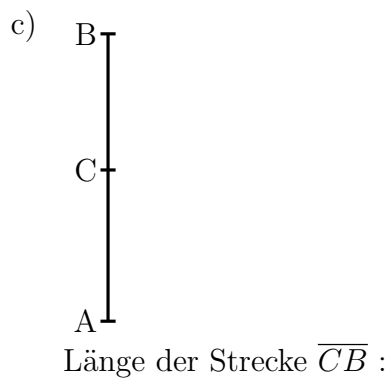
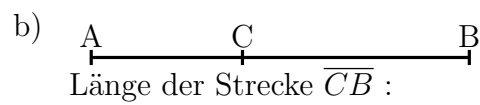


### Aufgabe 3

Miss die Länge der angegebenen Strecke auf einen Millimeter genau.




Länge der Strecke  $\overline{AC}$  :



### Aufgabe 4


Miss die Länge der angegebenen Strecke auf einen Millimeter genau.

a)



Länge der Strecke  $\overline{AC}$  :

c)



Länge der Strecke  $\overline{AC}$  :

e)



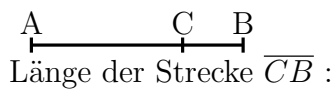
Länge der Strecke  $\overline{CB}$  :

b)



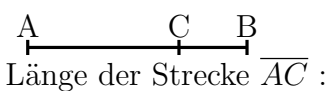
Länge der Strecke  $\overline{AC}$  :

d)



Länge der Strecke  $\overline{CB}$  :

f)



Länge der Strecke  $\overline{AC}$  :

Viel Erfolg!