

# Arbeitsblatt

28.07.2013


Kostenlos auf [dw-aufgaben.de](http://dw-aufgaben.de)

Aufgaben-Quickname: 7704

## Aufgabe 1

Vervollständige das Balkendiagramm. Beschrifte dabei die X-Achse mit Länge, die Y-Achse mit Himmelsrichtung.

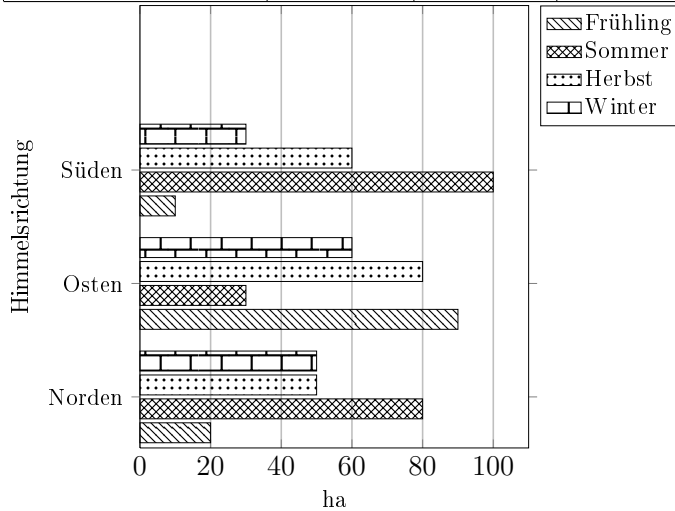
	Länge(km)		
Himmelsrichtung	Januar	Februar	März
Norden	20	80	40
Osten	70	20	70
Süden	80	30	20
Westen	30	10	30



## Aufgabe 2

Vervollständige das Balkendiagramm.

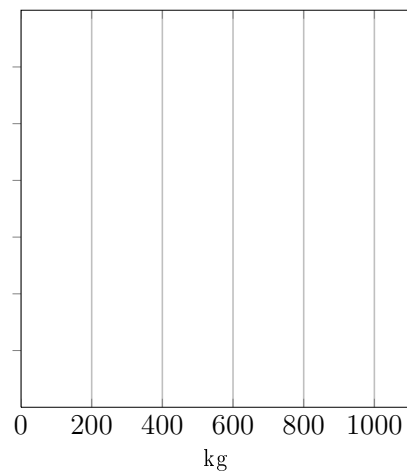
Himmelsrichtung	Fläche(ha)			
	Frühling	Sommer	Herbst	Winter
Norden	20	80	50	50
Osten	90	30	80	60
Süden	10	100	60	30
Westen	30	60	20	10



## Aufgabe 3

Vervollständige das Balkendiagramm.

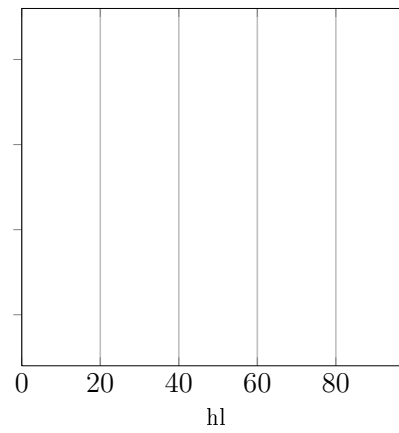
Tageszeit	Gewicht(kg)	
	Stettgurt	Lindewitt
Morgens	300	1000
Vormittags	500	100
Mittags	400	500
Nachmittags	600	300
Abends	1000	800
Nachts	900	700



#### Aufgabe 4

Vervollständige das Balkendiagramm.

	Menge(hl)		
Jahreszeit	Januar	Februar	März
Frühling	60	50	20
Sommer	80	40	30
Herbst	50	70	50
Winter	20	90	70



Viel Erfolg!