

Arbeitsblatt

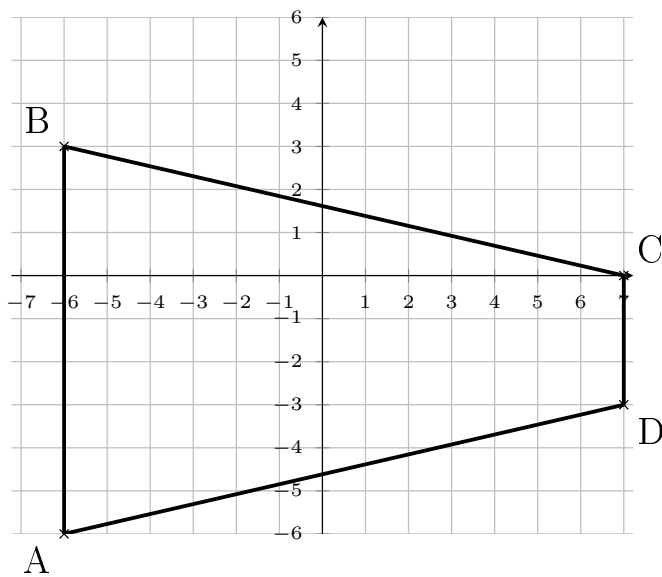
20.01.2014

Kostenlos auf dw-aufgaben.de

Aufgaben-Quickname: 7947

Aufgabe 1

Zeichne die Punkte in ein passendes Koordinatensystem ein. Verbinde die Punkte der Reihe nach zu einer geschlossenen Figur.

Quick:
7947

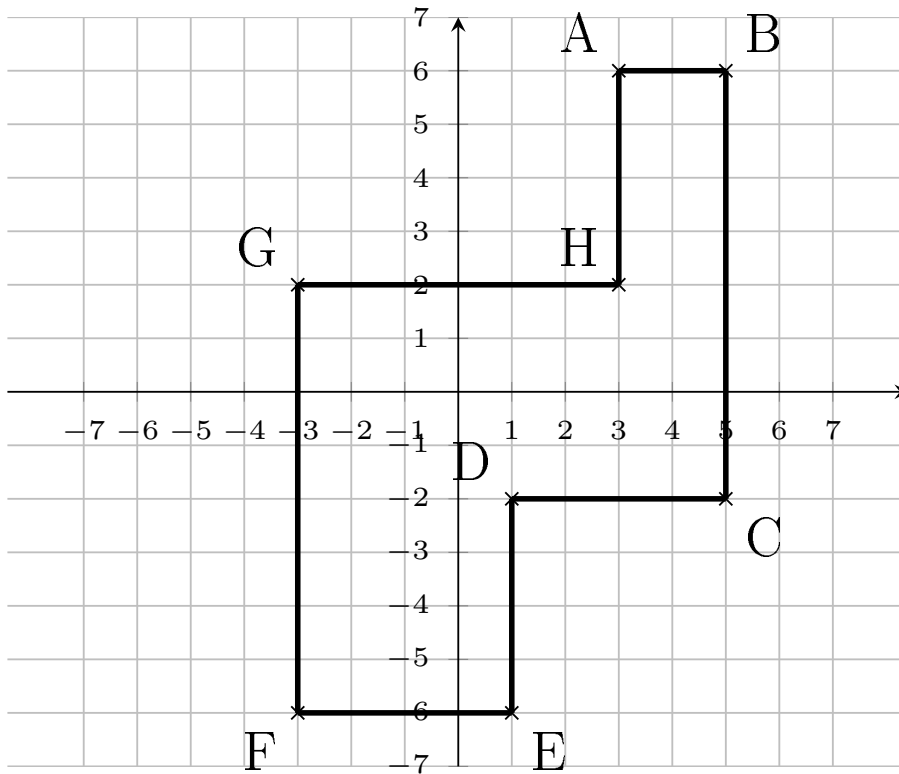
A(-6|-6), B(-6|3), C(7|0), D(7|-3)

Aufgabe 2

Zeichne die Punkte in das Koordinatensystem ein. Verbinde die Punkte der Reihe nach

Quick:
7947

zu einer geschlossenen Figur.

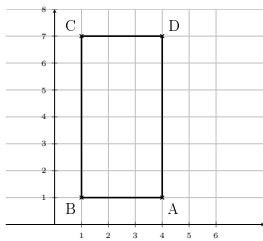


$A(3|6)$, $B(5|6)$, $C(5|-2)$, $D(1|-2)$, $E(1|-6)$, $F(-3|-6)$, $G(-3|2)$, $H(3|2)$

Aufgabe 3

Zeichne die Punkte in das Koordinatensystem ein. Verbinde die Punkte der Reihe nach zu einer geschlossenen Figur.

Quick:
7947



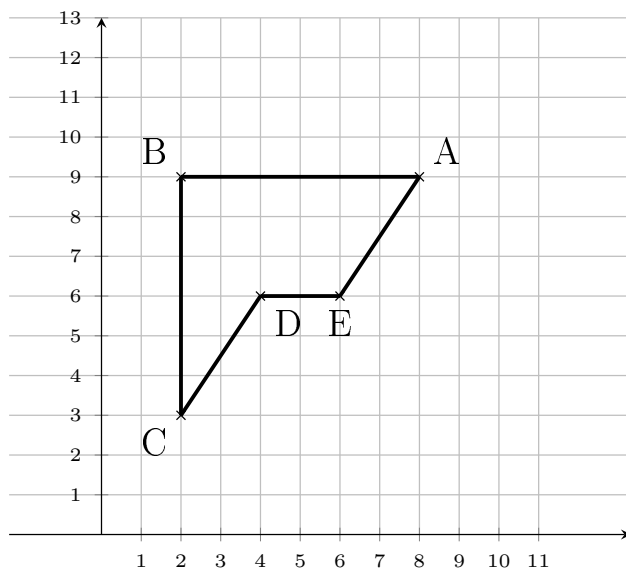
$A(4|1)$, $B(1|1)$, $C(1|7)$, $D(4|7)$

Aufgabe 4

Zeichne die Punkte in ein passendes Koordinatensystem ein. Verbinde die Punkte der

Quick:
7947

Reihe nach zu einer geschlossenen Figur.



A(8|9), B(2|9), C(2|3), D(4|6), E(6|6)

Viel Erfolg!