

Arbeitsblatt

10.06.2015

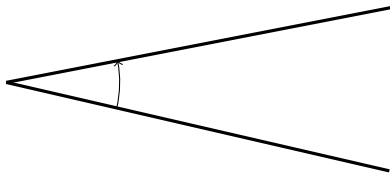
Kostenlos auf dw-aufgaben.de

Aufgaben-Quickname: 2777

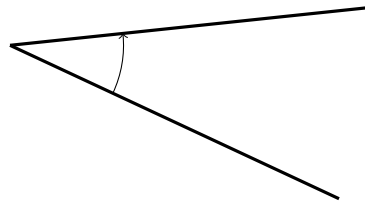
Aufgabe 1

Konstruiere mit Zirkel und Lineal die Winkelhalbierende.

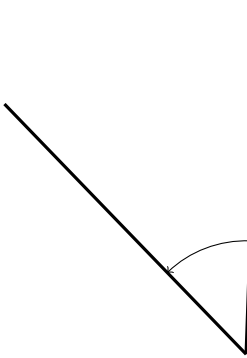
a)



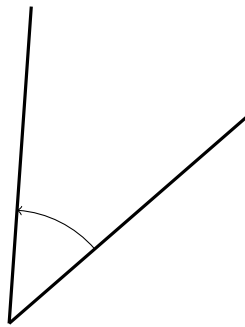
b)



c)



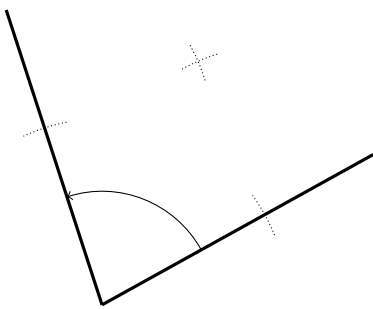
d)



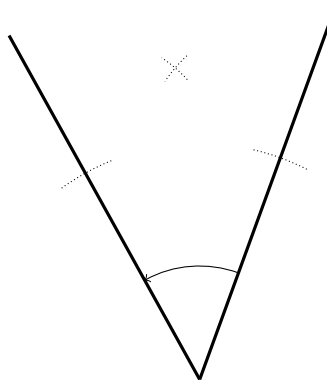
Aufgabe 2

Konstruiere mit Zirkel und Lineal die Winkelhalbierende. Ergänze dazu die Zeichnung.

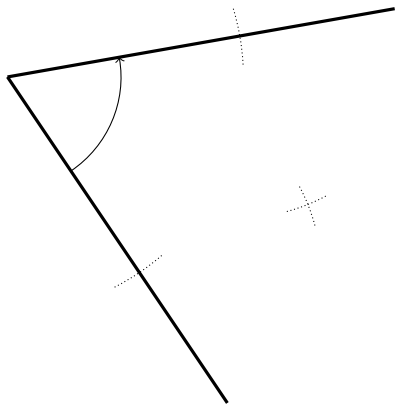
a)



b)



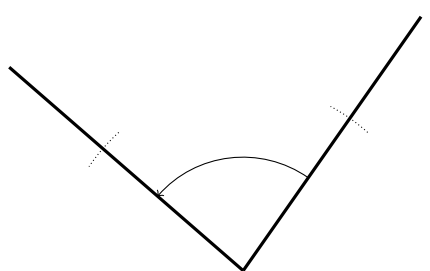
c)



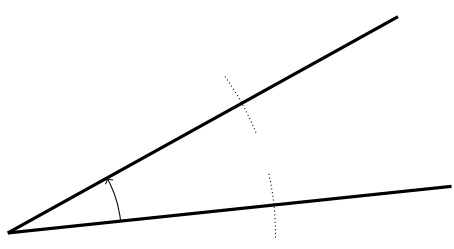
Aufgabe 3

Konstruiere mit Zirkel und Lineal die Winkelhalbierende. Ergänze dazu die Zeichnung.

a)



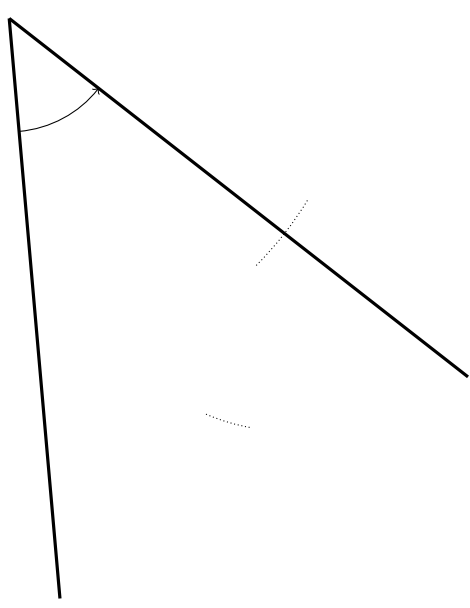
b)

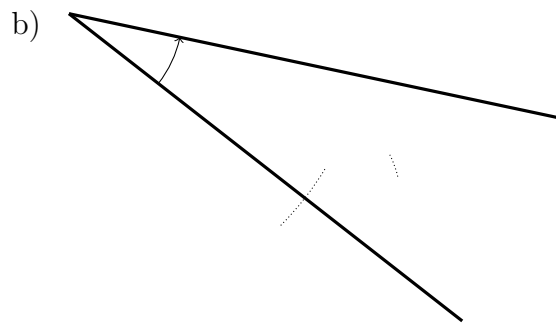


Aufgabe 4

Konstruiere mit Zirkel und Lineal die Winkelhalbierende. Ergänze dazu die Zeichnung.

a)





Viel Erfolg!