

Arbeitsblatt

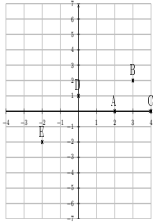
30.12.2013

Kostenlos auf dw-aufgaben.de

Aufgaben-Quickname: 4923

Aufgabe 1

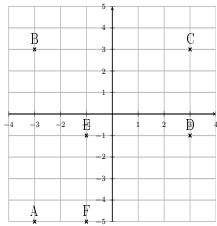
Gib die Koordinaten der Punkte an.

Quick:
4923

A(2|0), B(3|2), C(4|0), D(0|1), E(-2|-2)

Aufgabe 2

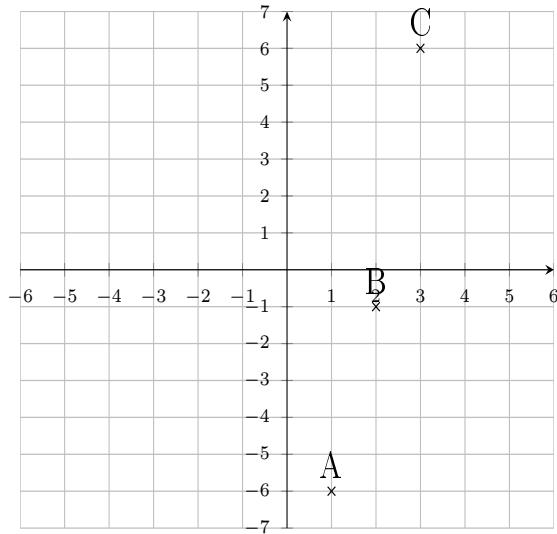
Gib die Koordinaten der Punkte an.

Quick:
4923

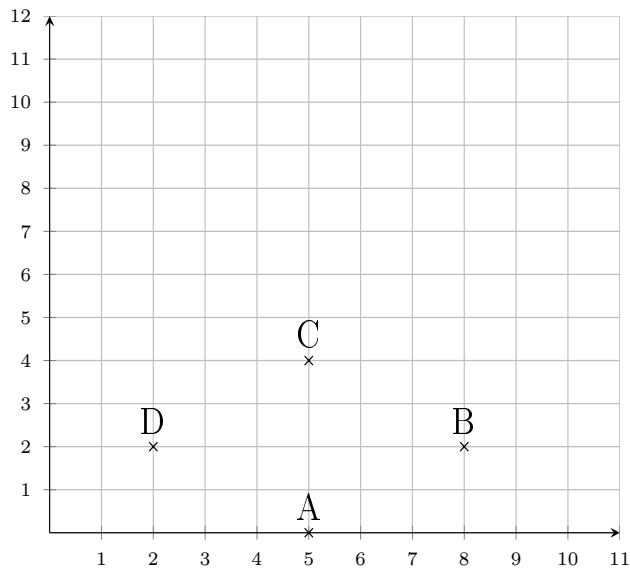
A(-3|-5), B(-3|3), C(3|3), D(3|-1), E(-1|-1), F(-1|-5)

Aufgabe 3Quick:
4923

Gib die Koordinaten der Punkte an.

 $A(1|-6)$, $B(2|-1)$, $C(3|6)$ Aufgabe 4Quick:
4923

Gib die Koordinaten der Punkte an.

 $A(5|0)$, $B(8|2)$, $C(5|4)$, $D(2|2)$

Viel Erfolg!