

Arbeitsblatt

28.07.2013

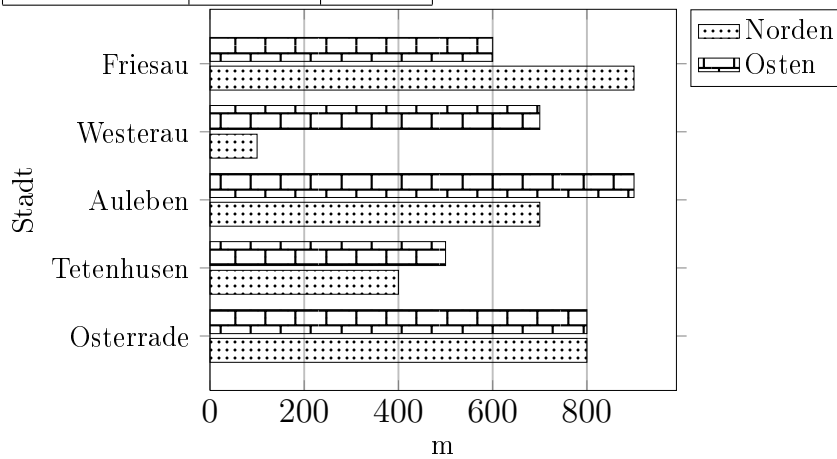
Kostenlos auf dw-aufgaben.de

Aufgaben-Quickname: 4977

Aufgabe 1

Vervollständige die Tabelle mit den Werten aus dem Diagramm.

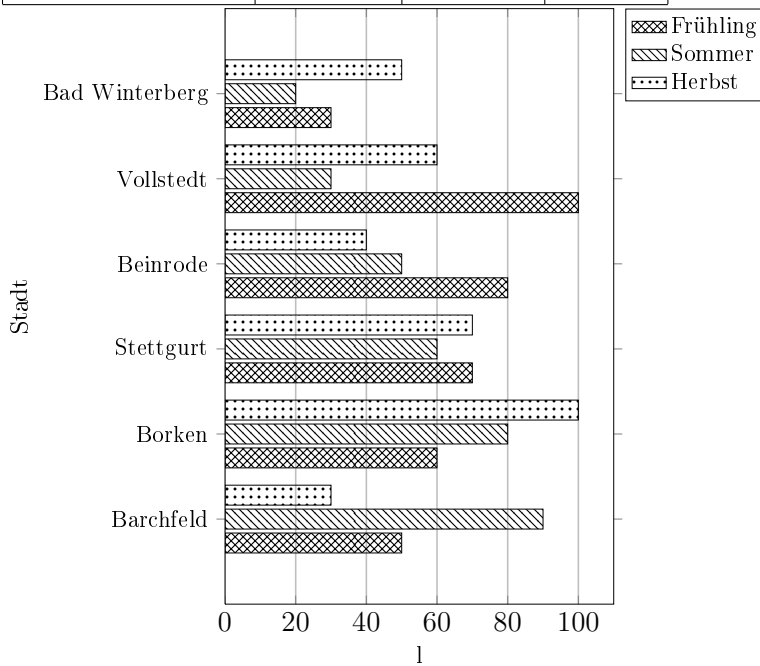
Stadt	Länge(m)	
	Norden	Osten
Osterrade		
Tetenhusen		
Auleben	700	
Westerau		
Friesau	900	



Aufgabe 2

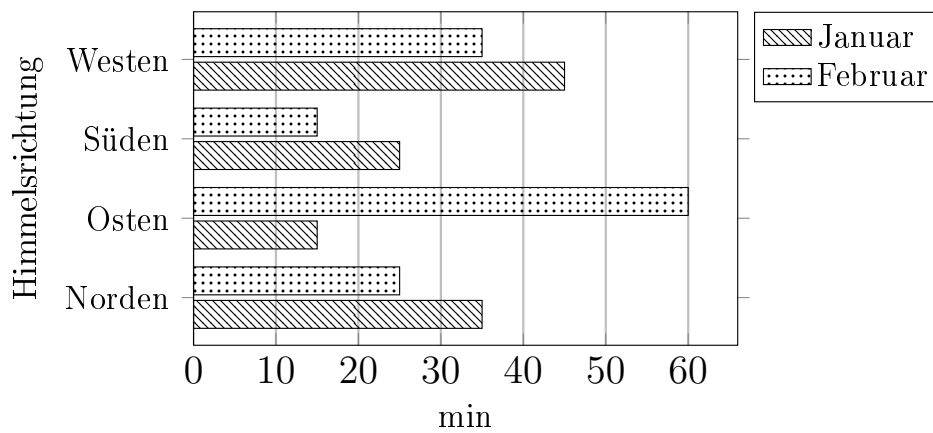
Vervollständige die Tabelle mit den Werten aus dem Diagramm.

Stadt	Menge(l)		
	Frühling	Sommer	Herbst
Barchfeld			
Borken			
Stettgurt			
Beinrode			
Vollstedt			
Bad Winterberg			50



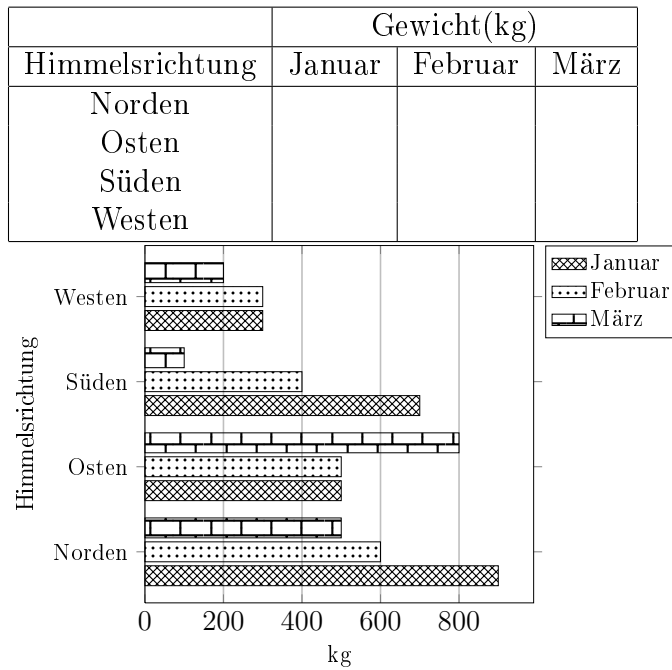
Aufgabe 3

Erstelle zu diesem Balkendiagramm eine Tabelle mit den Werten aus dem Diagramm.



Aufgabe 4

Vervollständige die Tabelle mit den Werten aus dem Diagramm.



Viel Erfolg!