

# Arbeitsblatt

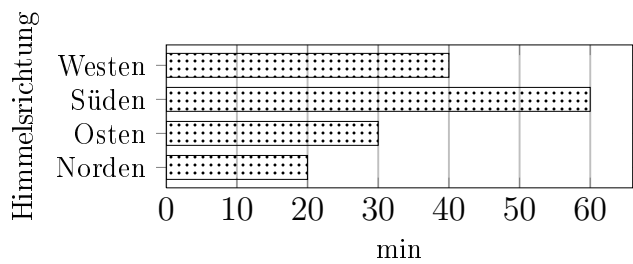
28.07.2013

Kostenlos auf [dw-aufgaben.de](http://dw-aufgaben.de)

Aufgaben-Quickname: 5058

## Aufgabe 1

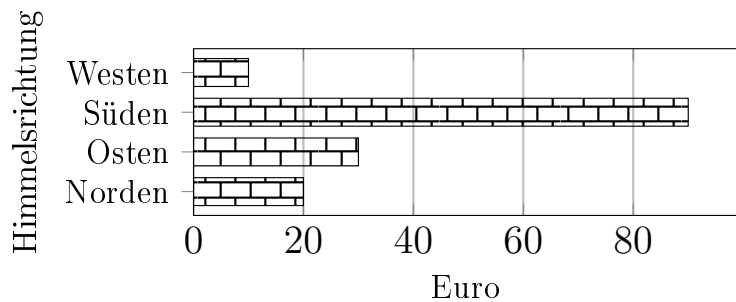
Erstelle zu diesem Balkendiagramm eine Tabelle mit den Werten aus dem Diagramm.



## Aufgabe 2

Vervollständige die Tabelle mit den Werten aus dem Diagramm.

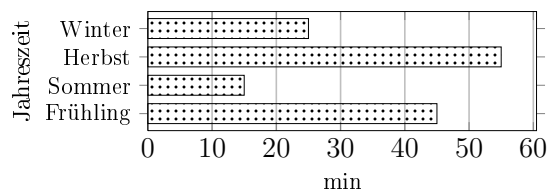
Himmelsrichtung	Betrag(Euro)
Norden	
Osten	
Süden	
Westen	



## Aufgabe 3

Vervollständige die Tabelle mit den Werten aus dem Diagramm.

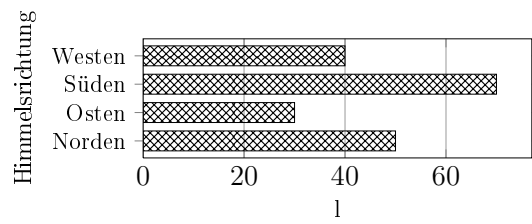
Jahreszeit	Zeit(min)
Frühling	
Sommer	
Herbst	55
Winter	25



### Aufgabe 4

Vervollständige die Tabelle mit den Werten aus dem Diagramm.

Himmelsrichtung	Menge(l)
Norden	70
Osten	
Süden	
Westen	
Westen	



Viel Erfolg!