

Arbeitsblatt

28.01.2014

Kostenlos auf dw-aufgaben.de

Aufgaben-Quickname: 5166


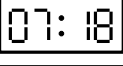
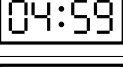
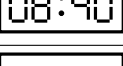


Aufgabe 1

Ordne die Ziffernblätter der richtigen Zeitangabe zu.

Uhrdarstellung			Zeitangabe
	A	1	fünf vor halb Zwölf
	B	2	viertel vor Sechs
	C	3	zehn vor Eins
	D	4	fünf vor halb Zehn
	E	5	zwanzig nach Eins







Aufgabe 2

Ordne die Zeitanzeigen der richtigen Zeitangabe zu.

Uhrdarstellung			Zeitangabe
	A	1	achtzehn nach Sieben
	B	2	acht Minuten nach Fünf
	C	3	fünf nach Sieben
	D	4	neunundzwanzig Minuten nach Zwölf
	E	5	zwanzig vor Neun
	F	6	eine Minute vor Fünf

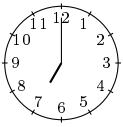
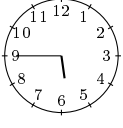
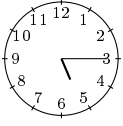


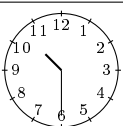
Aufgabe 3

Ordne die Ziffernblätter der richtigen Zeitangabe zu.

Uhrdarstellung		Zeitangabe	
	A	1	sieben Minuten vor Acht
	B	2	zwei Minuten vor Eins
	C	3	neun Minuten vor Zwei
	D	4	drei Minuten nach Sieben
	E	5	sechs Minuten vor Acht
	F	6	neunundzwanzig Minuten vor Neun

Aufgabe 4

Ordne die Ziffernblätter der richtigen Zeitangabe zu.

Uhrdarstellung			Zeitangabe
	A	1	viertel vor Acht
	B	2	halb Acht
	C	3	Sieben
	D	4	viertel nach Fünf
	E	5	halb Elf
	F	6	viertel vor Sechs

Viel Erfolg!