

Arbeitsblatt

26.02.2015

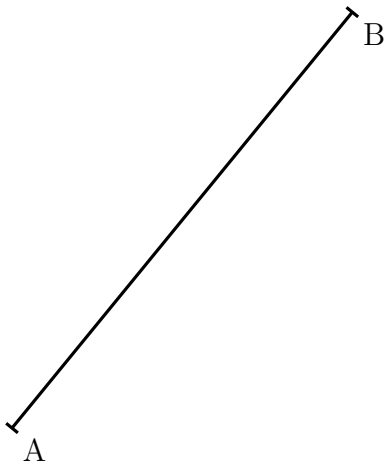
Kostenlos auf dw-aufgaben.de

Aufgaben-Quickname: 7758


Aufgabe 1

Miss die Länge der Strecke auf einen Millimeter genau.

a)



b)



c)



Aufgabe 2



Miss die Länge der Strecke auf einen Millimeter genau.

a)




b)






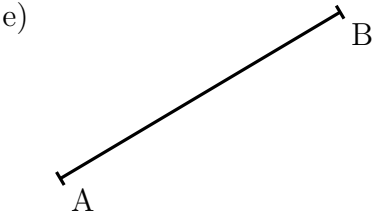
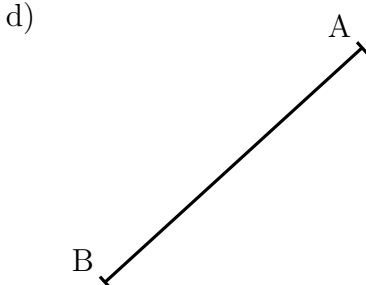
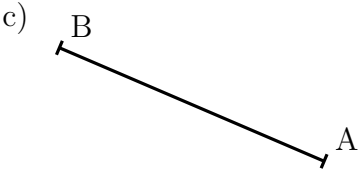
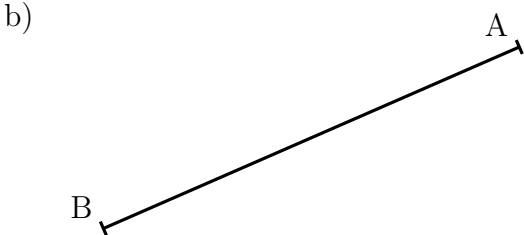
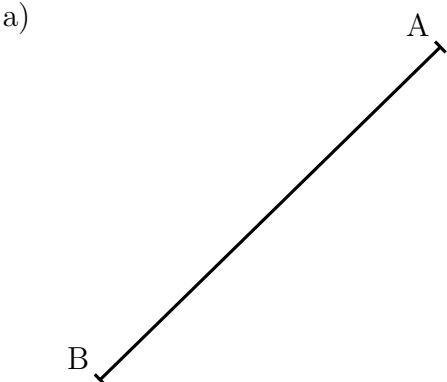
Aufgabe 3

Miss die Länge der Strecke auf einen Millimeter genau.



Aufgabe 4

Miss die Länge der Strecke auf einen Millimeter genau.



Viel Erfolg!