

# Arbeitsblatt

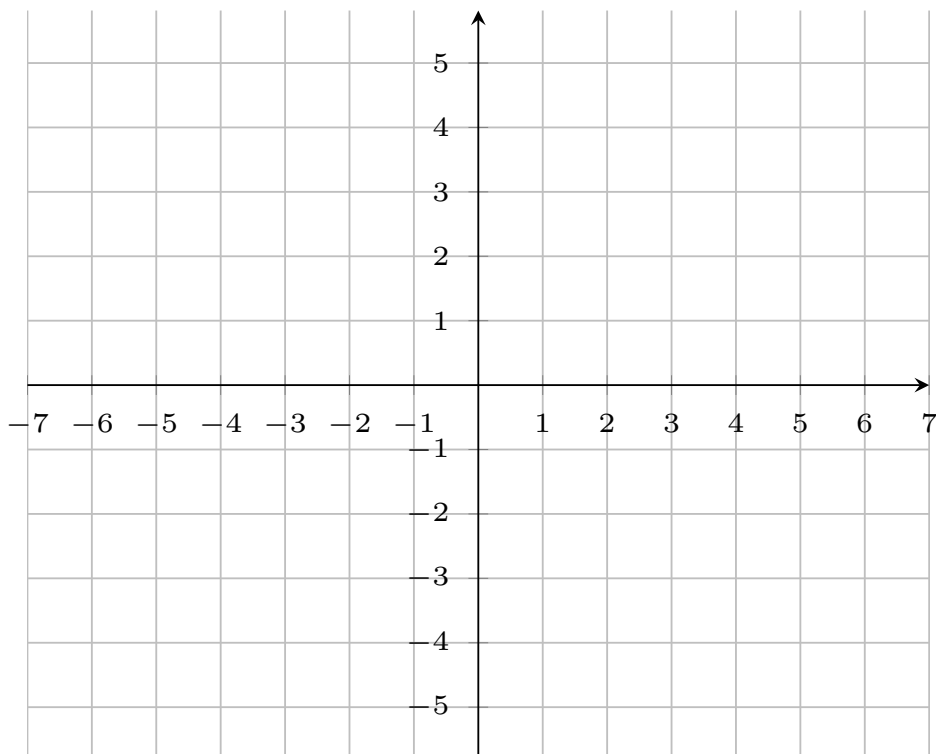
20.01.2014

Kostenlos auf [dw-aufgaben.de](http://dw-aufgaben.de)

Aufgaben-Quickname: 7947

## Aufgabe 1

Zeichne die Punkte in das Koordinatensystem ein. Verbinde die Punkte der Reihe nach zu einer geschlossenen Figur.

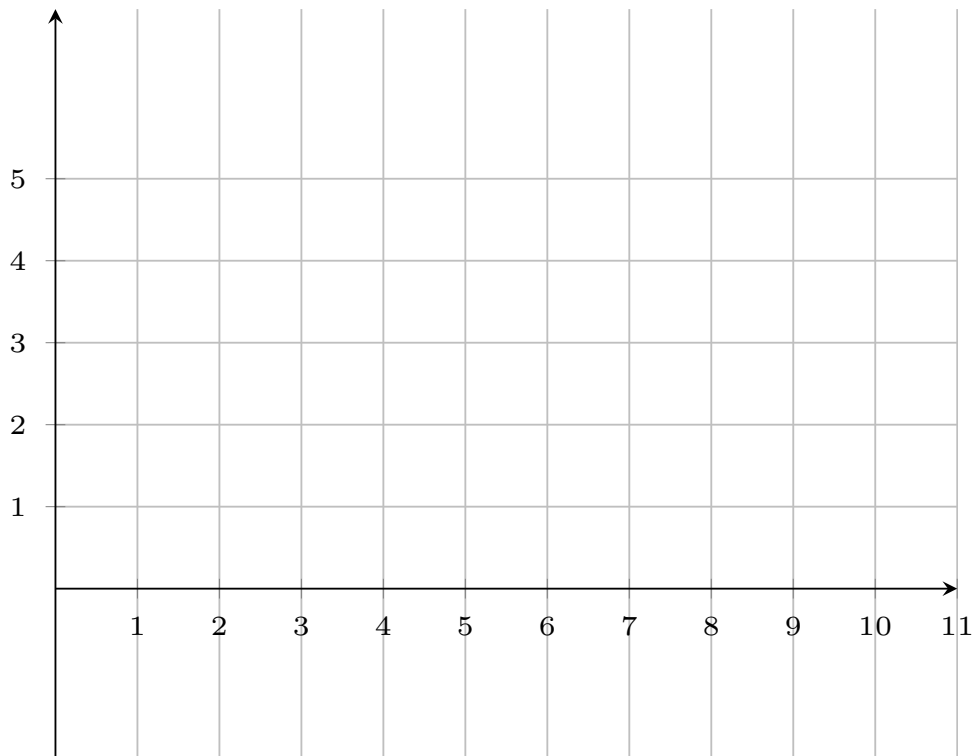


A(0|-1), B(6|-1), C(6|3), D(-6|3), E(-6|1), F(0|1)

## Aufgabe 2

Zeichne die Punkte in das Koordinatensystem ein. Verbinde die Punkte der Reihe nach

zu einer geschlossenen Figur.



$A(2|3)$ ,  $B(8|3)$ ,  $C(8|1)$ ,  $D(2|1)$

### Aufgabe 3

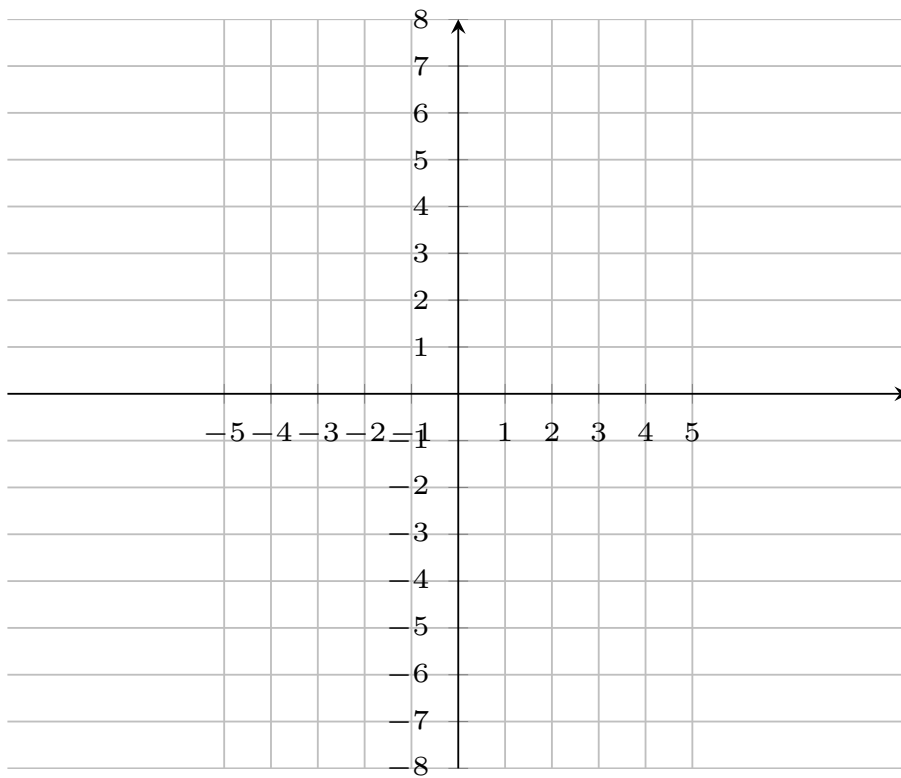
Zeichne die Punkte in ein passendes Koordinatensystem ein. Verbinde die Punkte der Reihe nach zu einer geschlossenen Figur.

$A(-1|-5)$ ,  $B(-3|-5)$ ,  $C(-3|1)$ ,  $D(3|1)$ ,  $E(3|-1)$ ,  $F(1|-1)$ ,  $G(1|-3)$ ,  $H(-1|-3)$

### Aufgabe 4

Zeichne die Punkte in das Koordinatensystem ein. Verbinde die Punkte der Reihe nach

zu einer geschlossenen Figur.



A(-4|-7), B(-4|5), C(0|5), D(0|2), E(4|2), F(4|-4), G(0|-4), H(0|-7)

Viel Erfolg!