

Arbeitsblatt

26.01.2014

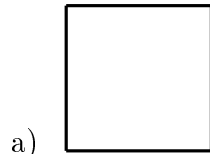
Kostenlos auf dw-aufgaben.de

Aufgaben-Quickname: 3288

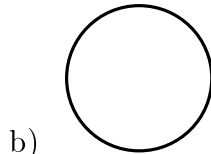
Aufgabe 1

Quick:
3288


Um welche geometrische Figur handelt es sich hier?



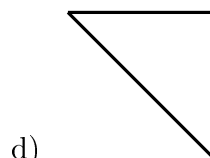
- ein Dreieck
- eine Ellipse
- ein Quadrat
- ein Kreis



- ein Rechteck
- ein Dreieck
- ein Kreis
- ein Quadrat



- ein Rechteck
- ein Kreis
- ein Dreieck
- eine Ellipse




- ein Dreieck
- ein Kreis
- ein Quadrat
- eine Ellipse

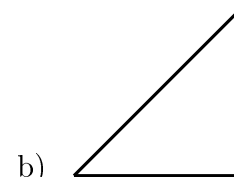
Aufgabe 2

Quick:
3288

Um welche geometrische Figur handelt es sich hier?



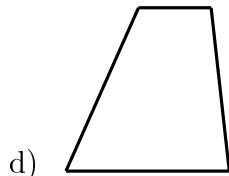
- eine Raute
- ein Dreieck
- ein Trapez
- ein Rechteck



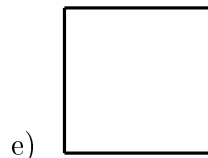
- eine Ellipse
- ein Rechteck
- ein Dreieck
- ein Kreis




- ein Rechteck
- eine Ellipse
- ein Quadrat
- eine Raute



- × eine Raute
- × ein Dreieck
- ✓ ein Trapez
- × ein Rechteck



- × eine Ellipse
- × ein Kreis
- ✓ ein Quadrat
- × ein Dreieck

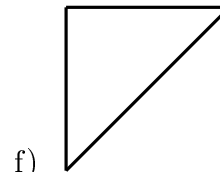
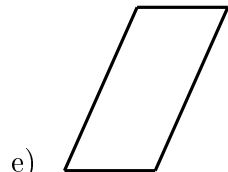
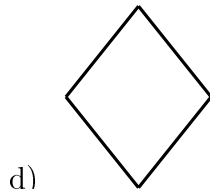
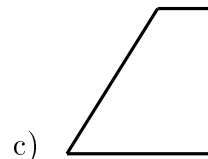
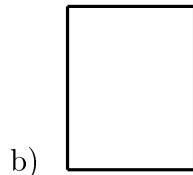
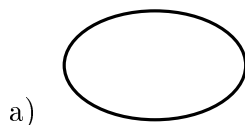


- × ein Parallelogramm
- × ein Trapez
- × eine Raute
- ✓ ein Kreis

Aufgabe 3

Um welche geometrische Figur handelt es sich hier?

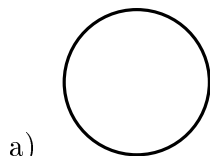
Quick:
3288




Aufgabe 4

Um welche geometrische Figur handelt es sich hier?

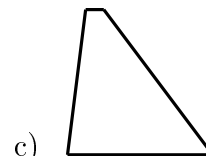
Quick:
3288



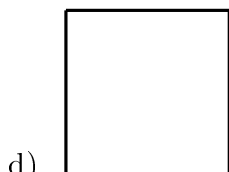
- × ein Rechteck
- ✓ ein Kreis
- × ein Trapez
- × ein Dreieck



- × ein Quadrat
- ✓ ein Rechteck
- × ein Trapez
- × ein Kreis



- × eine Raute
- × ein Rechteck
- ✓ ein Trapez
- × eine Ellipse



- ✓ ein Parallelogramm
- ✓ eine Raute
- ✓ ein Rechteck
- ✓ ein Quadrat

Viel Erfolg!