

Arbeitsblatt

25.02.2018

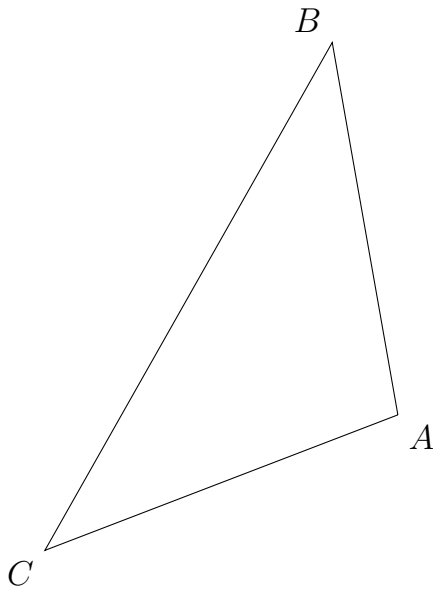
Kostenlos auf dw-aufgaben.de

Aufgaben-Quickname: 4571

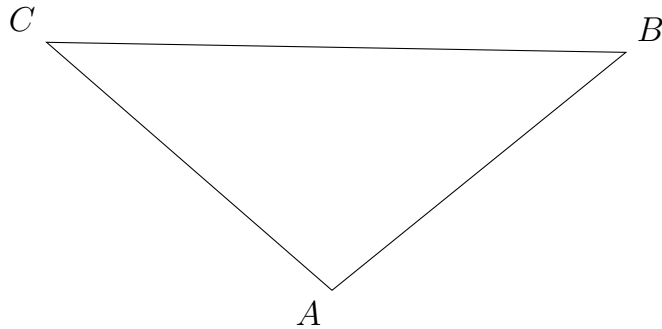
Aufgabe 1

Zeichne in das Dreieck die entsprechenden Elemente ein.

- a) Die Winkelhalbierende von β :



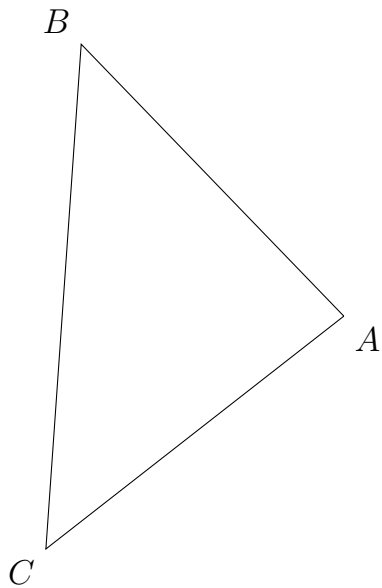
- b) Die Seitenhalbierende s_a :



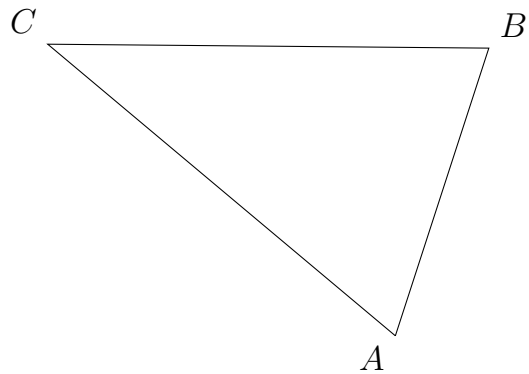
Aufgabe 2

Zeichne in das Dreieck die entsprechenden Elemente ein.

a) Die Mittelsenkrechte von b :



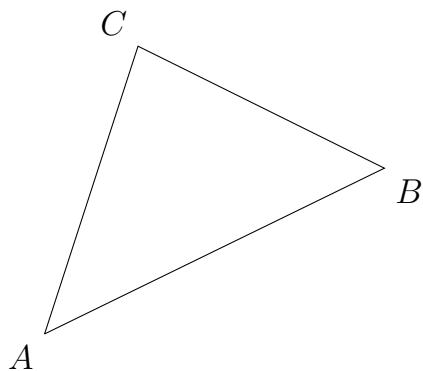
b) Die Mittelsenkrechte von a :



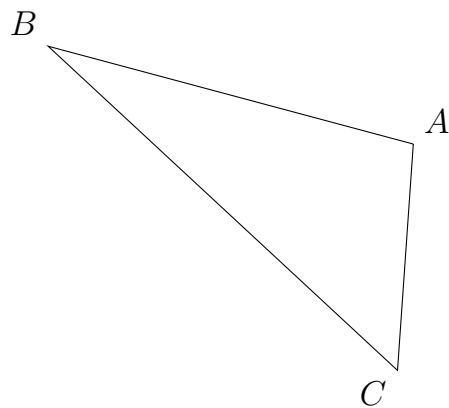
Aufgabe 3

Zeichne in das Dreieck die entsprechenden Elemente ein.

a) Die Winkelhalbierende von β :



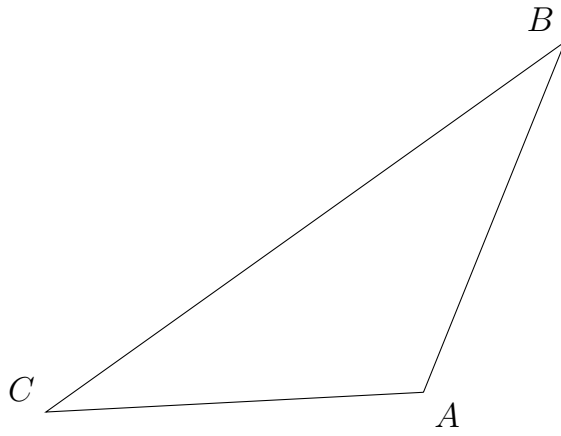
b) Die Winkelhalbierende von γ :



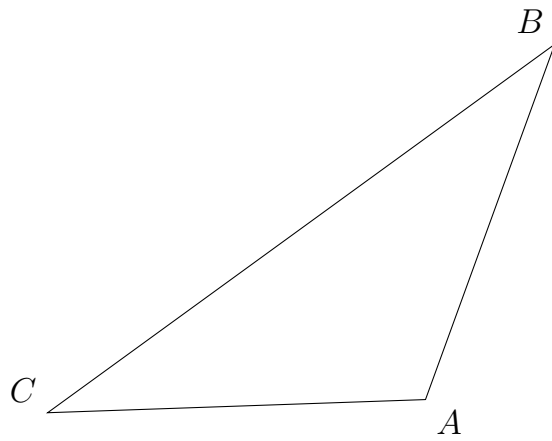
Aufgabe 4

Zeichne in das Dreieck die entsprechenden Elemente ein.

a) Die Höhe h_b :



b) Die Höhe h_c :



Viel Erfolg!