

# Arbeitsblatt

25.02.2018

Kostenlos auf [dw-aufgaben.de](http://dw-aufgaben.de)

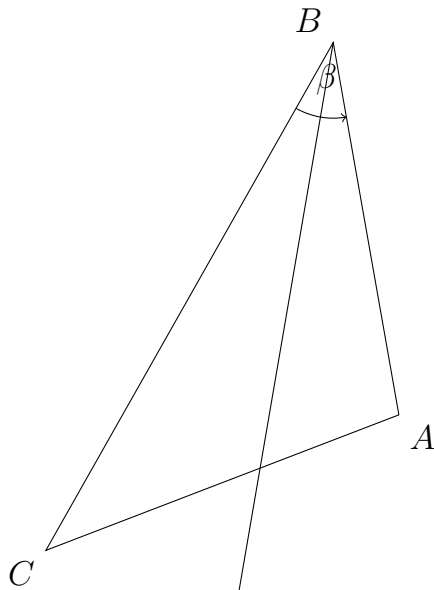
Aufgaben-Quickname: 4571

## Aufgabe 1

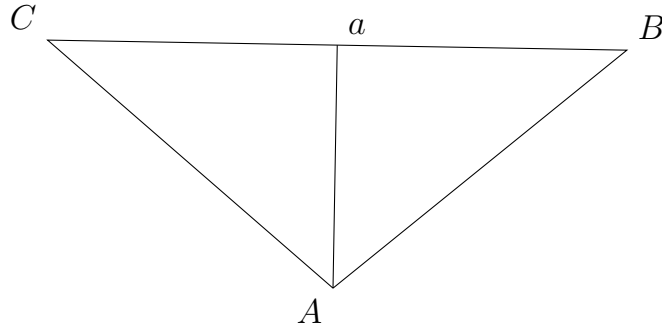
Zeichne in das Dreieck die entsprechenden Elemente ein.

Quick:  
4571

- a) Die Winkelhalbierende von
- $\beta$
- :



- b) Die Seitenhalbierende
- $s_a$
- :

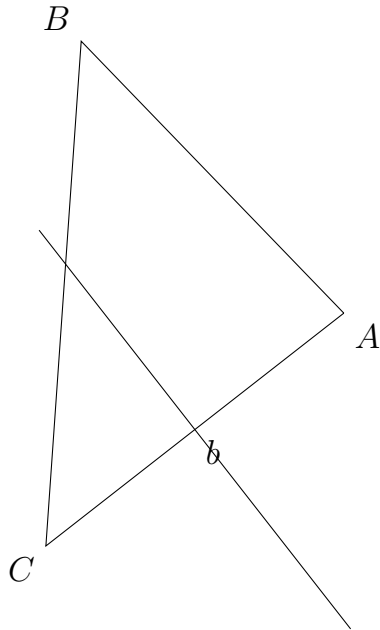


Aufgabe 2

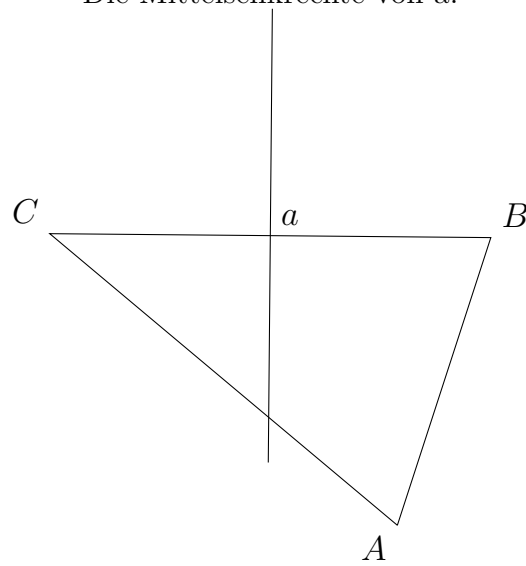
Quick:  
4571

Zeichne in das Dreieck die entsprechenden Elemente ein.

a) Die Mittelsenkrechte von  $b$ :



b) Die Mittelsenkrechte von  $a$ :

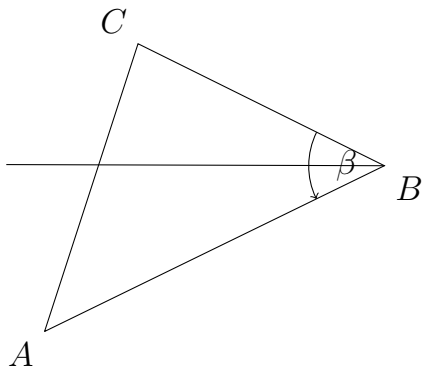


Aufgabe 3

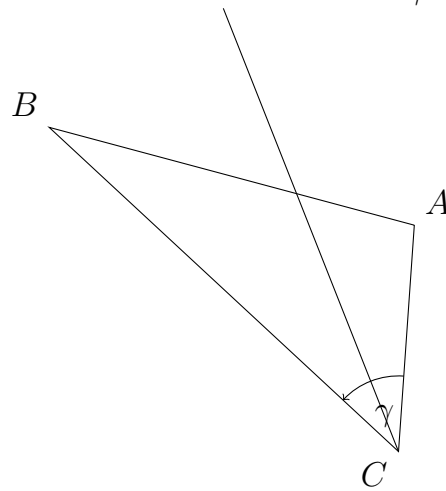
Quick:  
4571

Zeichne in das Dreieck die entsprechenden Elemente ein.

a) Die Winkelhalbierende von  $\beta$ :



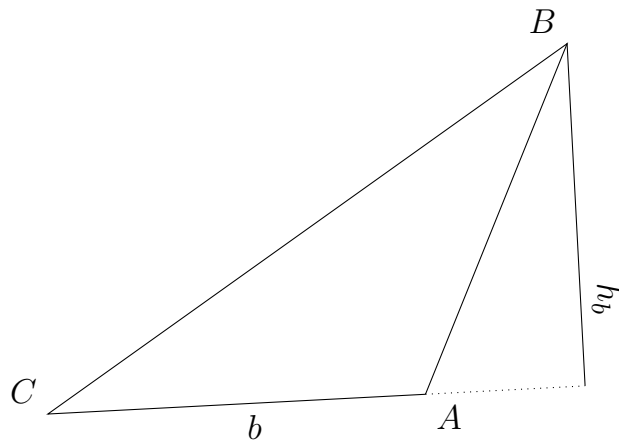
b) Die Winkelhalbierende von  $\gamma$ :



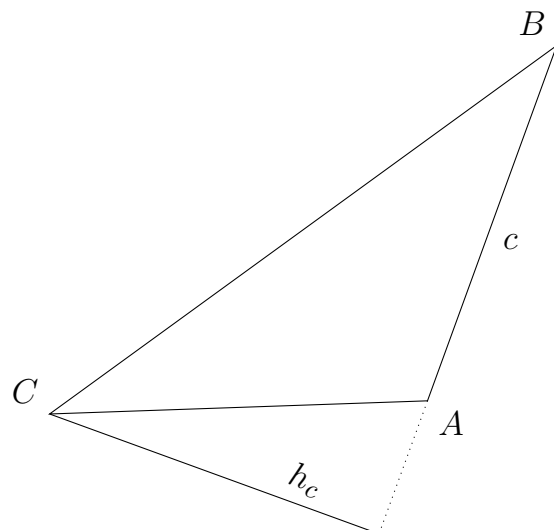
Aufgabe 4Quick:  
4571

Zeichne in das Dreieck die entsprechenden Elemente ein.

- a) Die Höhe
- $h_b$
- :



- b) Die Höhe
- $h_c$
- :



Viel Erfolg!