

Arbeitsblatt

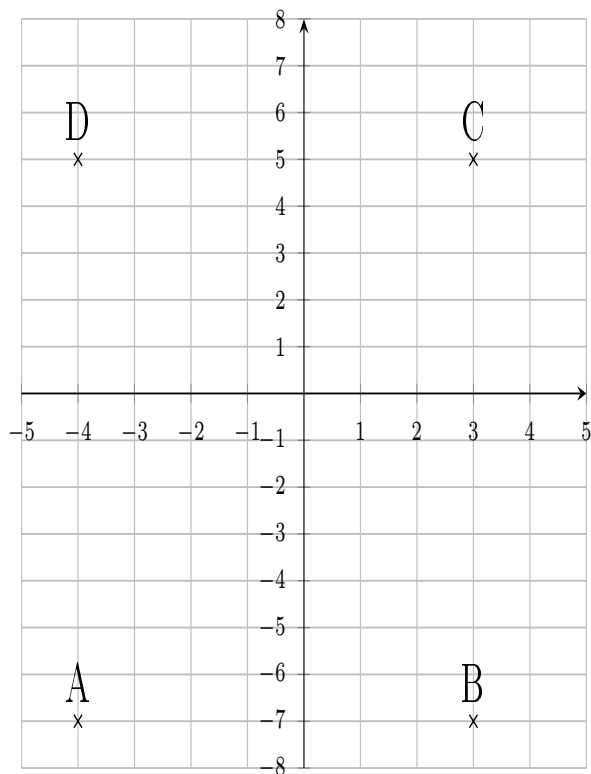
30.12.2013

Kostenlos auf dw-aufgaben.de

Aufgaben-Quickname: 4923

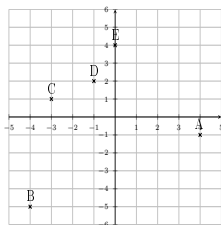
Aufgabe 1

Gib die Koordinaten der Punkte an.



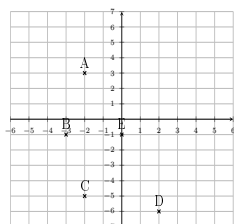
Aufgabe 2

Gib die Koordinaten der Punkte an.



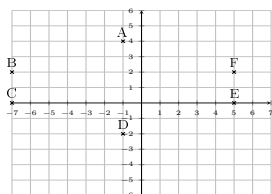
Aufgabe 3

Gib die Koordinaten der Punkte an.



Aufgabe 4

Gib die Koordinaten der Punkte an.



Viel Erfolg!