

# Arbeitsblatt

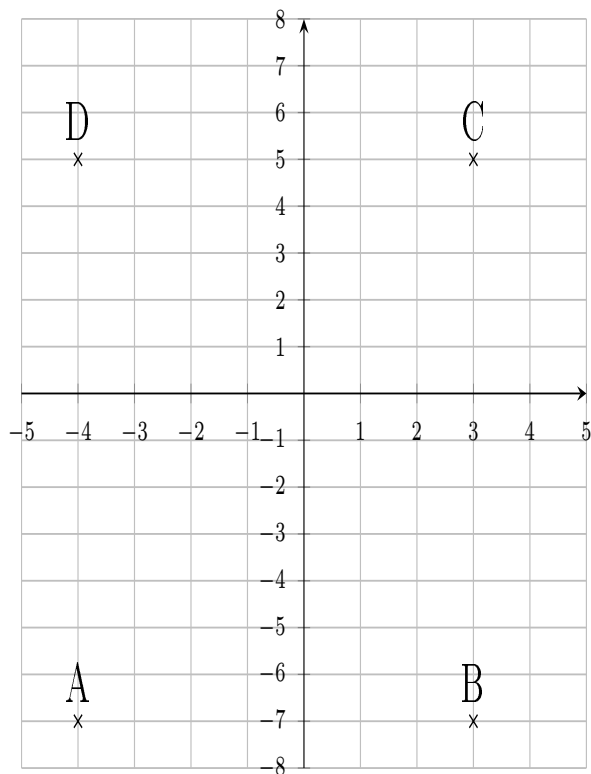
30.12.2013

Kostenlos auf [dw-aufgaben.de](http://dw-aufgaben.de)

Aufgaben-Quickname: 4923

## Aufgabe 1

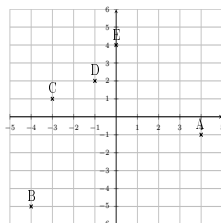
Gib die Koordinaten der Punkte an.

Quick:  
4923

A(-4|-7), B(3|-7), C(3|5), D(-4|5)

## Aufgabe 2

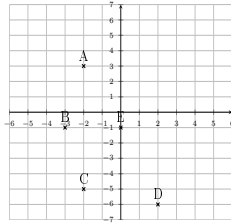
Gib die Koordinaten der Punkte an.

Quick:  
4923

A(4|-1), B(-4|-5), C(-3|1), D(-1|2), E(0|4)

Aufgabe 3Quick:  
4923

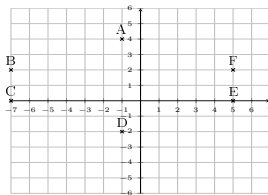
Gib die Koordinaten der Punkte an.



A(-2|3), B(-3|-1), C(-2|-5), D(2|-6), E(0|-1)

Aufgabe 4Quick:  
4923

Gib die Koordinaten der Punkte an.



A(-1|4), B(-7|2), C(-7|0), D(-1|-2), E(5|0), F(5|2)

Viel Erfolg!