

Arbeitsblatt

28.07.2013

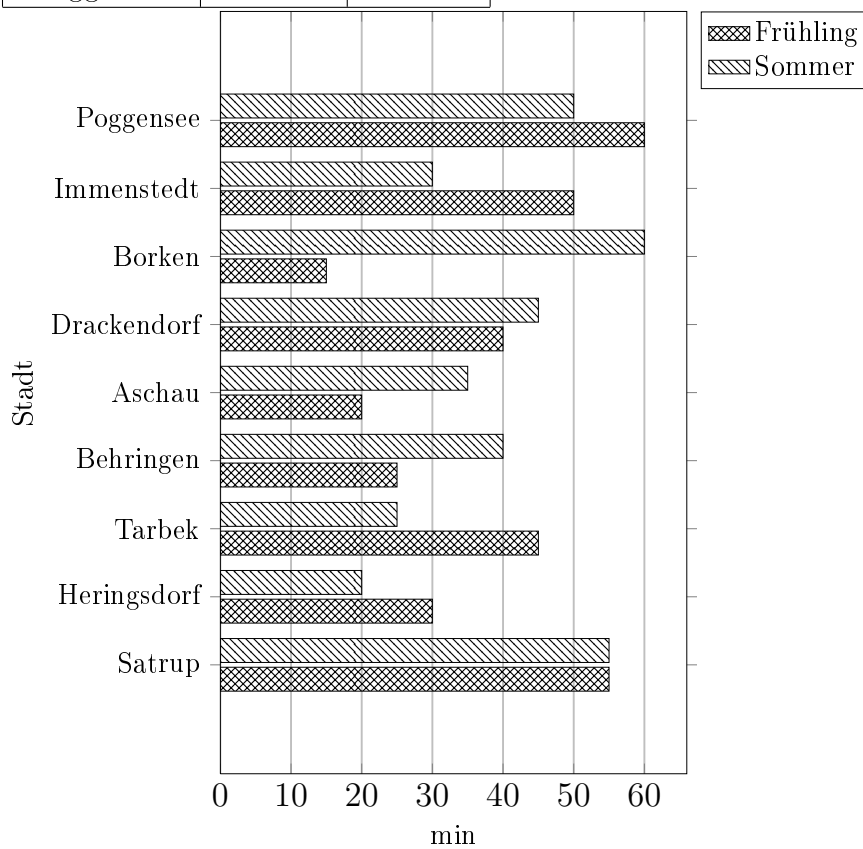
Kostenlos auf dw-aufgaben.de

Aufgaben-Quickname: 4977

Aufgabe 1

Vervollständige die Tabelle mit den Werten aus dem Diagramm.

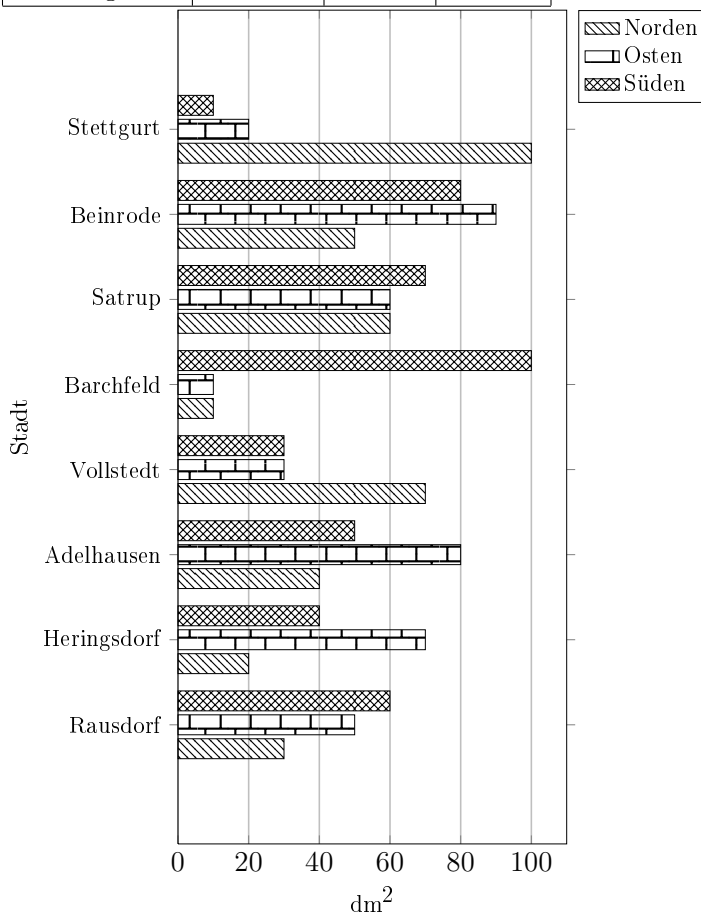
Stadt	Zeit(min)	
	Frühling	Sommer
Satrup		
Heringsdorf		
Tarbek		
Behringen		
Aschau		
Drackendorf		45
Borken		
Immenstedt	50	
Poggensee		50



Aufgabe 2

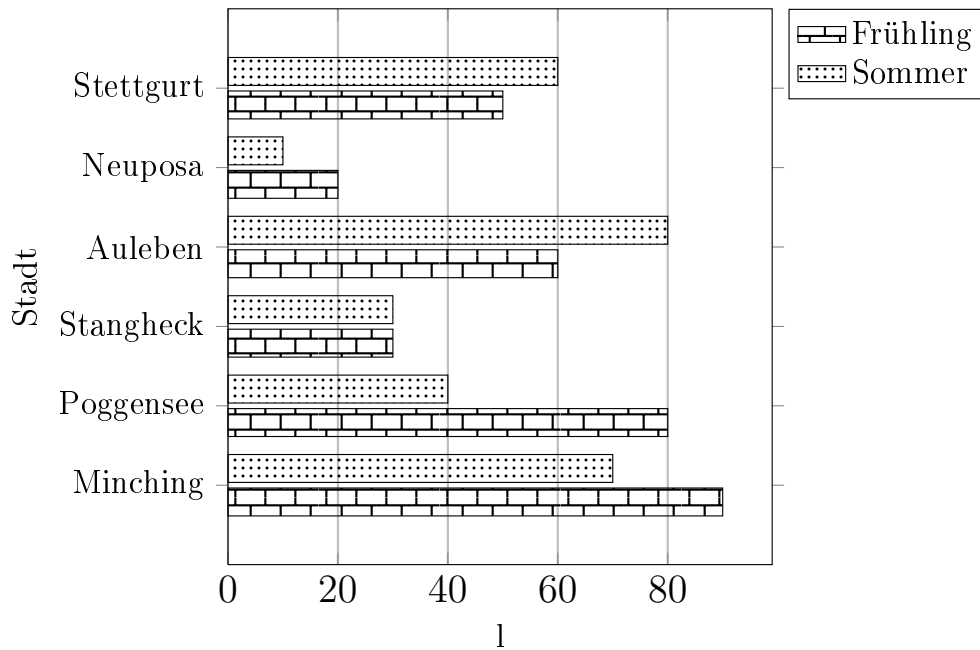
Vervollständige die Tabelle mit den Werten aus dem Diagramm.

Stadt	Fläche(dm ²)		
	Norden	Osten	Süden
Rausdorf			
Heringsdorf			
Adelhausen			
Vollstedt			
Barchfeld			
Satrup			
Beinrode		90	
Stettgurt			



Aufgabe 3

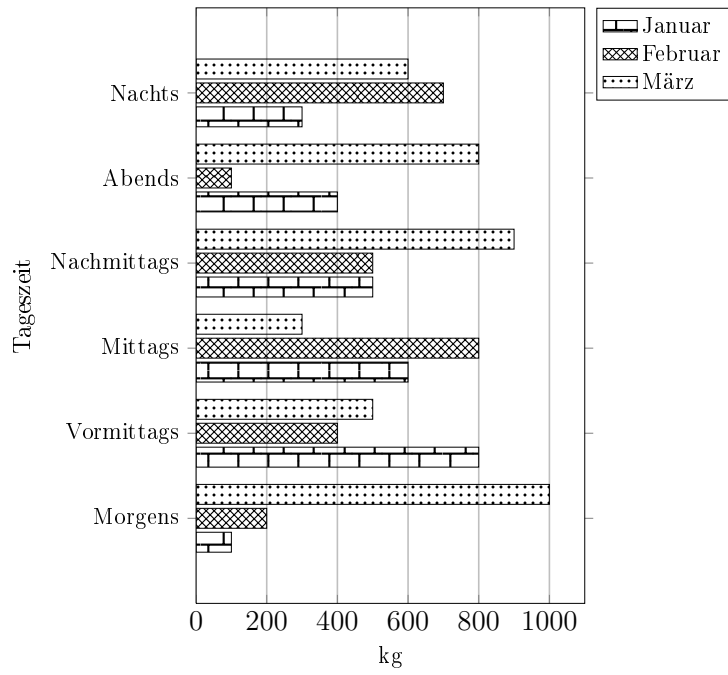
Erstelle zu diesem Balkendiagramm eine Tabelle mit den Werten aus dem Diagramm.



Aufgabe 4

Vervollständige die Tabelle mit den Werten aus dem Diagramm.

Tageszeit	Gewicht(kg)		
	Januar	Februar	März
Morgens			
Vormittags			
Mittags			
Nachmittags			
Abends			
Nachts			



Viel Erfolg!