

Arbeitsblatt

28.07.2013

Kostenlos auf dw-aufgaben.de

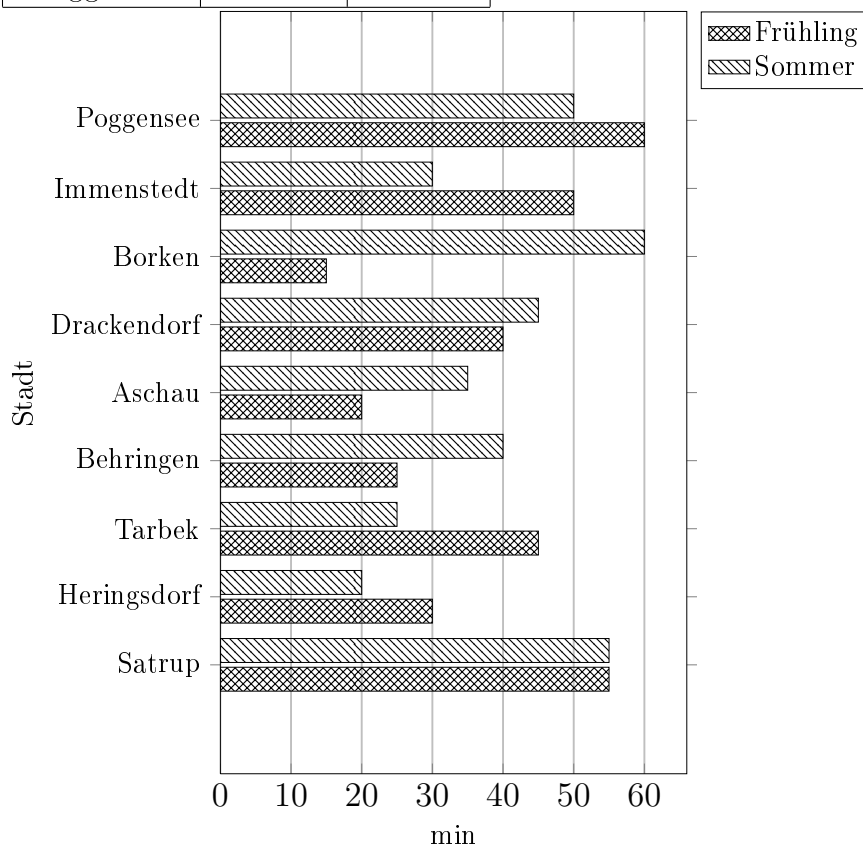
Aufgaben-Quickname: 4977

Aufgabe 1

Vervollständige die Tabelle mit den Werten aus dem Diagramm.

Quick:
4977

Stadt	Zeit(min)	
	Frühling	Sommer
Satrup	55	55
Heringsdorf	30	20
Tarbek	45	25
Behringen	25	40
Aschau	20	35
Drackendorf	40	45
Borken	15	60
Immenstedt	50	30
Poggensee	60	50

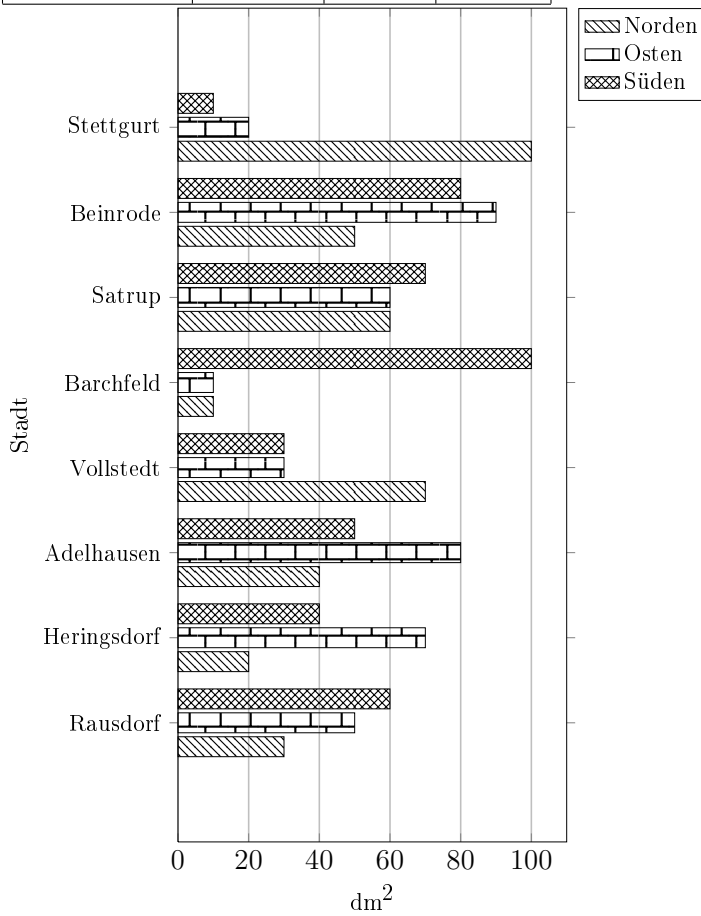


Aufgabe 2

Quick:
4977

Vervollständige die Tabelle mit den Werten aus dem Diagramm.

Stadt	Fläche(dm ²)		
	Norden	Osten	Süden
Rausdorf	30	50	60
Heringsdorf	20	70	40
Adelhausen	40	80	50
Vollstedt	70	30	30
Barchfeld	10	10	100
Satrup	60	60	70
Beinrode	50	90	80
Stettgurt	100	20	10

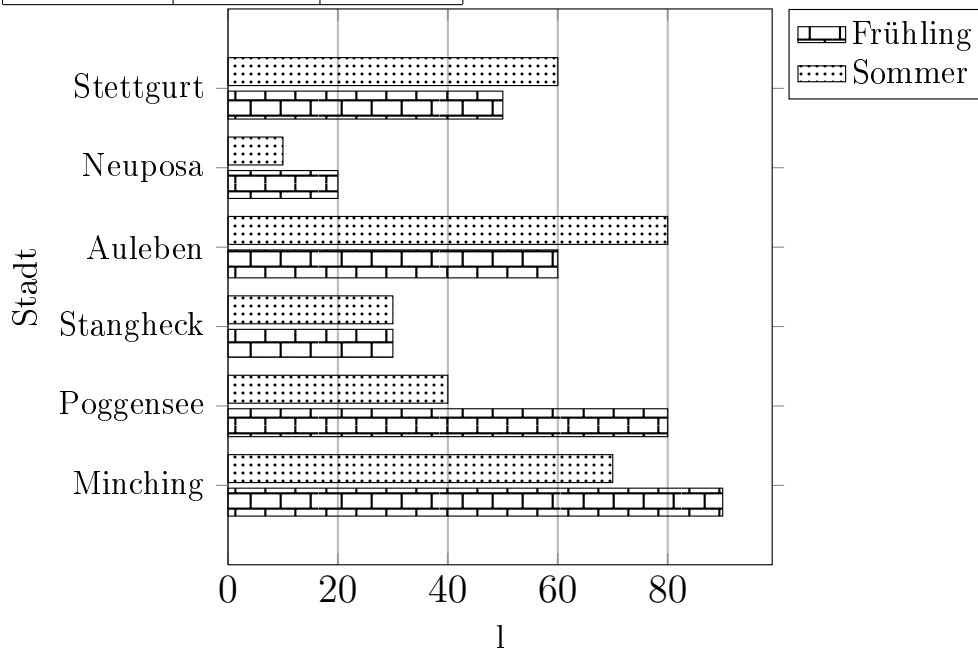


Aufgabe 3

Quick:
4977

Erstelle zu diesem Balkendiagramm eine Tabelle mit den Werten aus dem Diagramm.

Stadt	Menge(l)	
	Frühling	Sommer
Minching	90	70
Poggensee	80	40
Stangheck	30	30
Auleben	60	80
Neuposa	20	10
Stettgurt	50	60



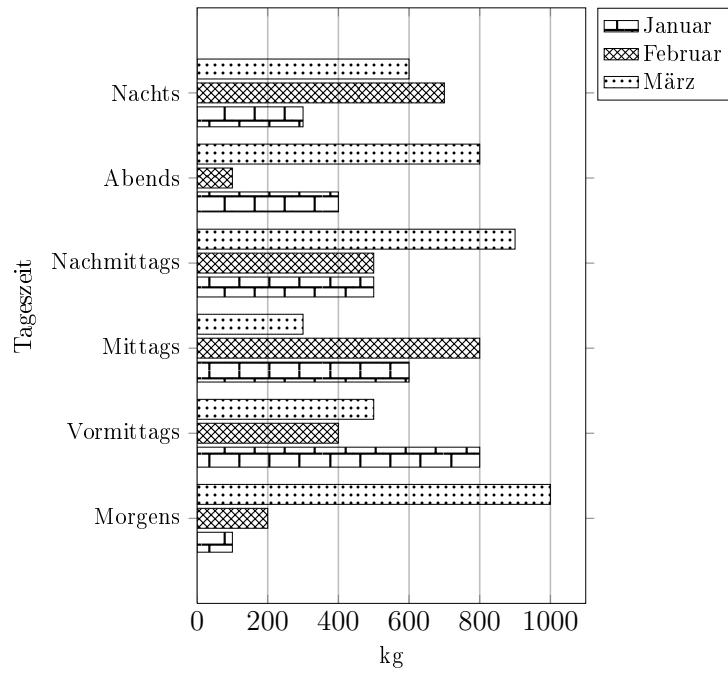
Aufgabe 4

Quick:
4977

Vervollständige die Tabelle mit den Werten aus dem Diagramm.

Tageszeit	Gewicht(kg)		
	Januar	Februar	März
Morgens	100	200	1000
Vormittags	800	400	500
Mittags	600	800	300
Nachmittags	500	500	900
Abends	400	100	800
Nachts	300	700	600

LÖSUNG zu bsp-4977-3/BPPF



Viel Erfolg!