

# Arbeitsblatt

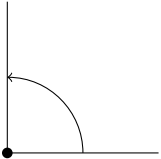
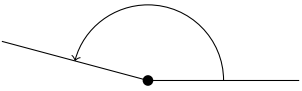
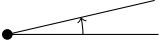

14.06.2015

Kostenlos auf [dw-aufgaben.de](http://dw-aufgaben.de)

Aufgaben-Quickname: 5113

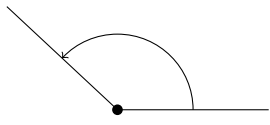

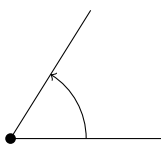
## Aufgabe 1

Ordne den Winkeln auf der linken Seite die richtige Art auf der rechten Seite zu.

	Winkel		Winkelart
A		1	spitzer Winkel
B		2	gestreckter Winkel
C		3	stumpfer Winkel
D		4	rechter Winkel

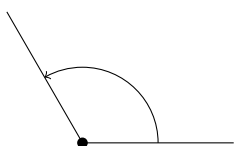
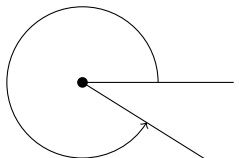
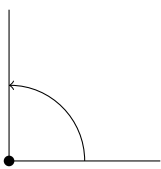
### Aufgabe 2

Ordne den Winkeln auf der linken Seite die richtige Art auf der rechten Seite zu.

	Winkel		Winkelart
A		1	spitzer Winkel
B		2	stumpfer Winkel
C		3	Nullwinkel

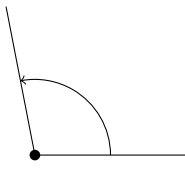
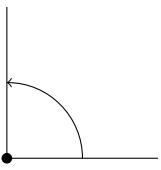
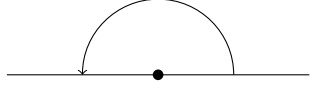
### Aufgabe 3

Ordne den Winkeln auf der linken Seite die richtige Art auf der rechten Seite zu.

	Winkel		Winkelart
A		1	überstumpfer Winkel
B		2	rechter Winkel
C		3	stumpfer Winkel

### Aufgabe 4

Ordne den Winkeln auf der linken Seite die richtige Art auf der rechten Seite zu.

	Winkel
A	
B	
C	

	Winkelart
1	gestreckter Winkel
2	stumpfer Winkel
3	rechter Winkel

Viel Erfolg!