

Arbeitsblatt

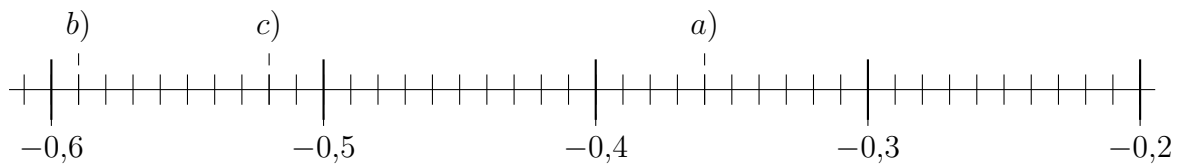
29.01.2016

Kostenlos auf dw-aufgaben.de

Aufgaben-Quickname: 7730

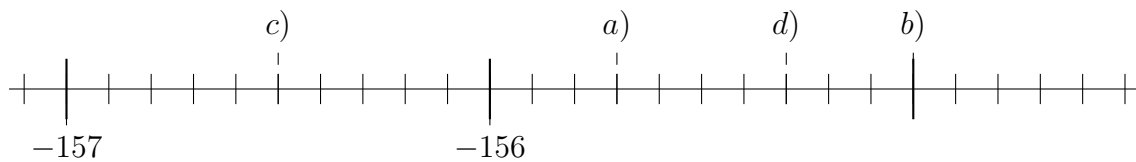
Aufgabe 1

Welche Zahlen sind am Zahlenstrahl eingezeichnet?



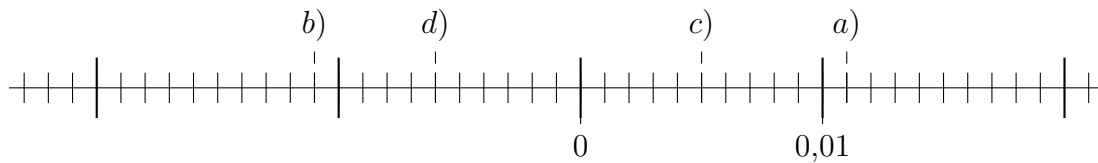
Aufgabe 2

Welche Zahlen sind am Zahlenstrahl eingezeichnet?



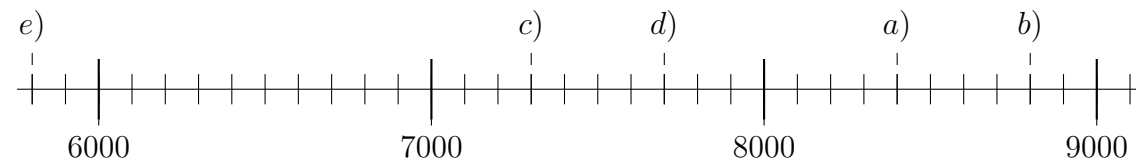
Aufgabe 3

Welche Zahlen sind am Zahlenstrahl eingezeichnet?



Aufgabe 4

Welche Zahlen sind am Zahlenstrahl eingezeichnet?



Viel Erfolg!