

Arbeitsblatt

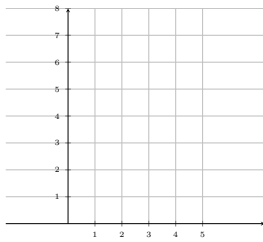
20.01.2014

Kostenlos auf dw-aufgaben.de

Aufgaben-Quickname: 7947

Aufgabe 1

Zeichne die Punkte in das Koordinatensystem ein. Verbinde die Punkte der Reihe nach zu einer geschlossenen Figur.



A(3|2), B(3|6), C(1|6), D(1|2)

Aufgabe 2

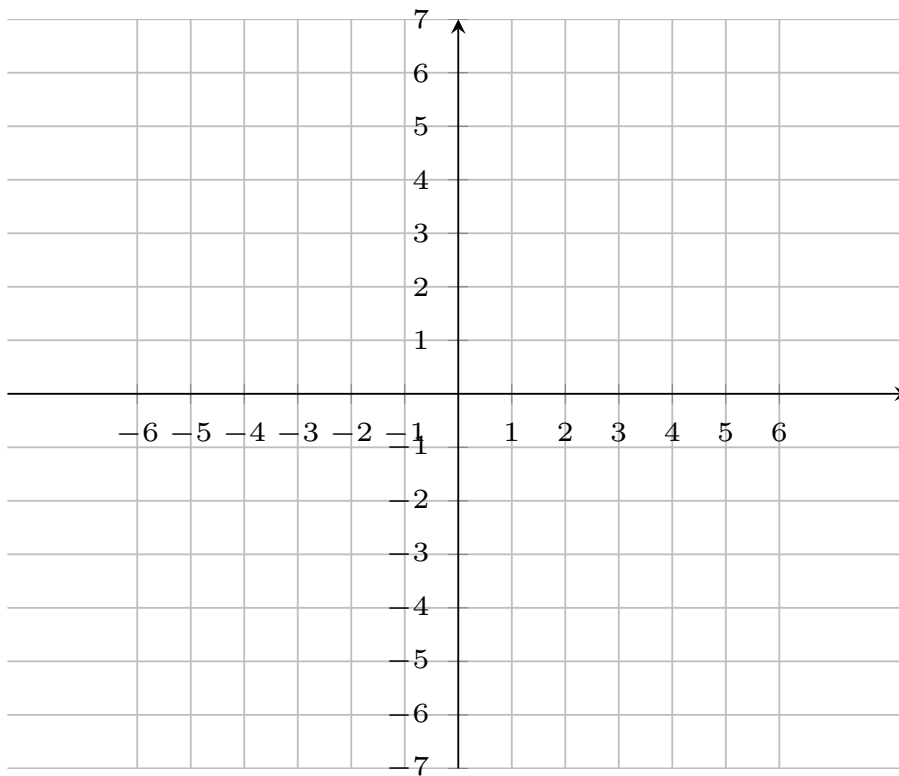
Zeichne die Punkte in ein passendes Koordinatensystem ein. Verbinde die Punkte der Reihe nach zu einer geschlossenen Figur.

A(4|8), B(2|8), C(2|10), D(6|10), E(6|12), F(4|12)

Aufgabe 3

Zeichne die Punkte in das Koordinatensystem ein. Verbinde die Punkte der Reihe nach

zu einer geschlossenen Figur.

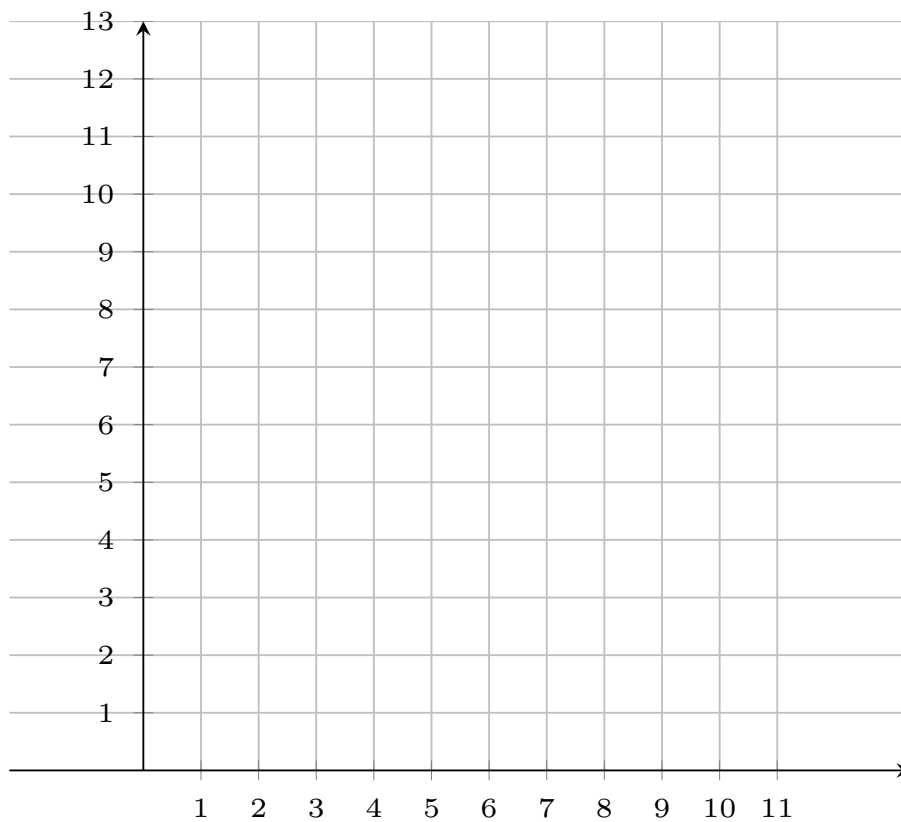


A(-6|-7), B(0|-7), C(0|-3), D(3|-3), E(3|5), F(-3|5), G(-3|1), H(-6|1)

Aufgabe 4

Zeichne die Punkte in das Koordinatensystem ein. Verbinde die Punkte der Reihe nach

zu einer geschlossenen Figur.



$A(2|8)$, $B(2|11)$, $C(6|11)$, $D(6|8)$, $E(8|8)$, $F(8|2)$, $G(4|2)$, $H(4|8)$

Viel Erfolg!