

Arbeitsblatt

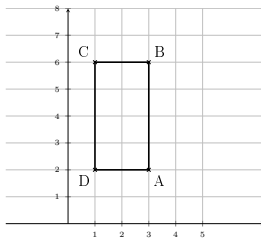
20.01.2014

Kostenlos auf dw-aufgaben.de

Aufgaben-Quickname: 7947

Aufgabe 1

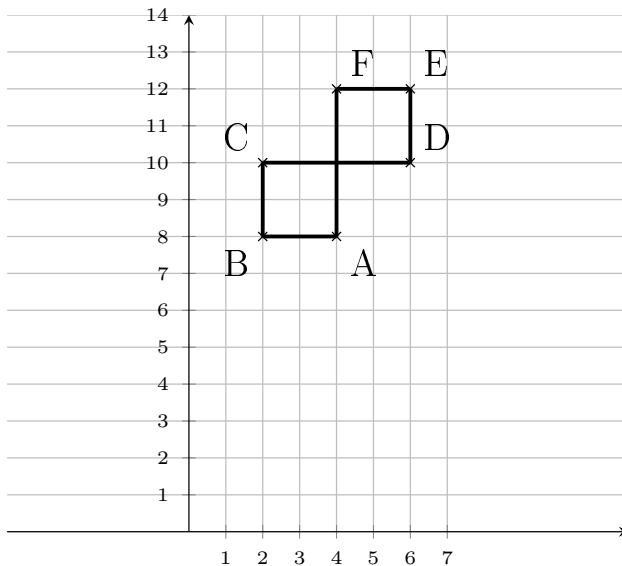
Zeichne die Punkte in das Koordinatensystem ein. Verbinde die Punkte der Reihe nach zu einer geschlossenen Figur.

Quick:
7947

A(3|2), B(3|6), C(1|6), D(1|2)

Aufgabe 2

Zeichne die Punkte in ein passendes Koordinatensystem ein. Verbinde die Punkte der Reihe nach zu einer geschlossenen Figur.

Quick:
7947

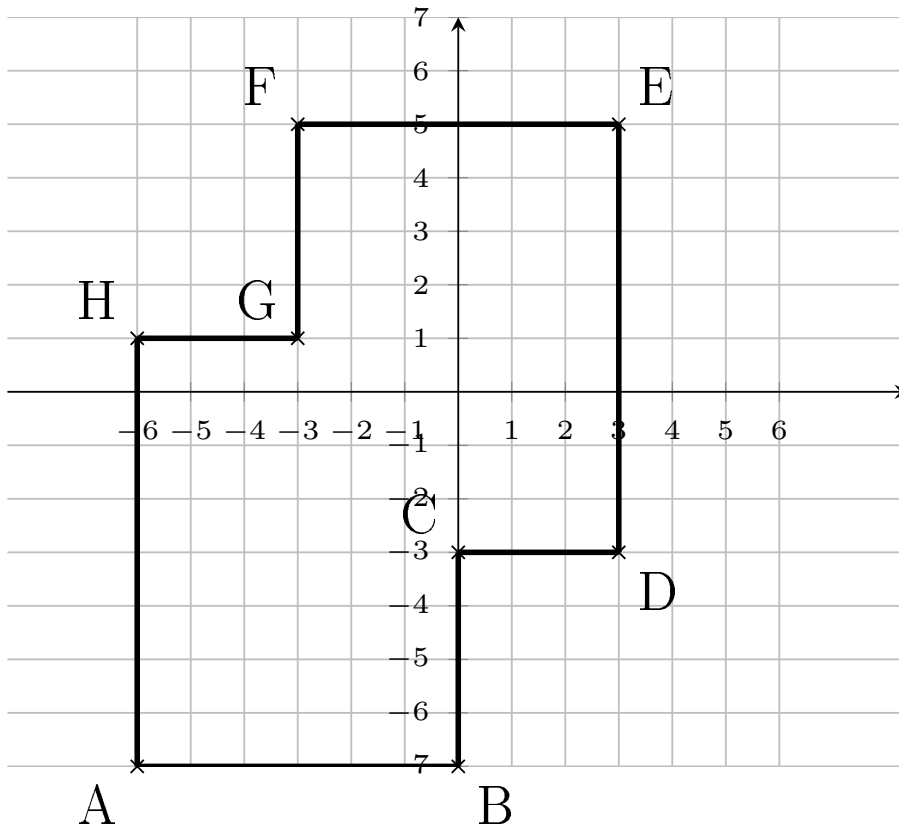
A(4|8), B(2|8), C(2|10), D(6|10), E(6|12), F(4|12)

Aufgabe 3

Zeichne die Punkte in das Koordinatensystem ein. Verbinde die Punkte der Reihe nach

Quick:
7947

zu einer geschlossenen Figur.



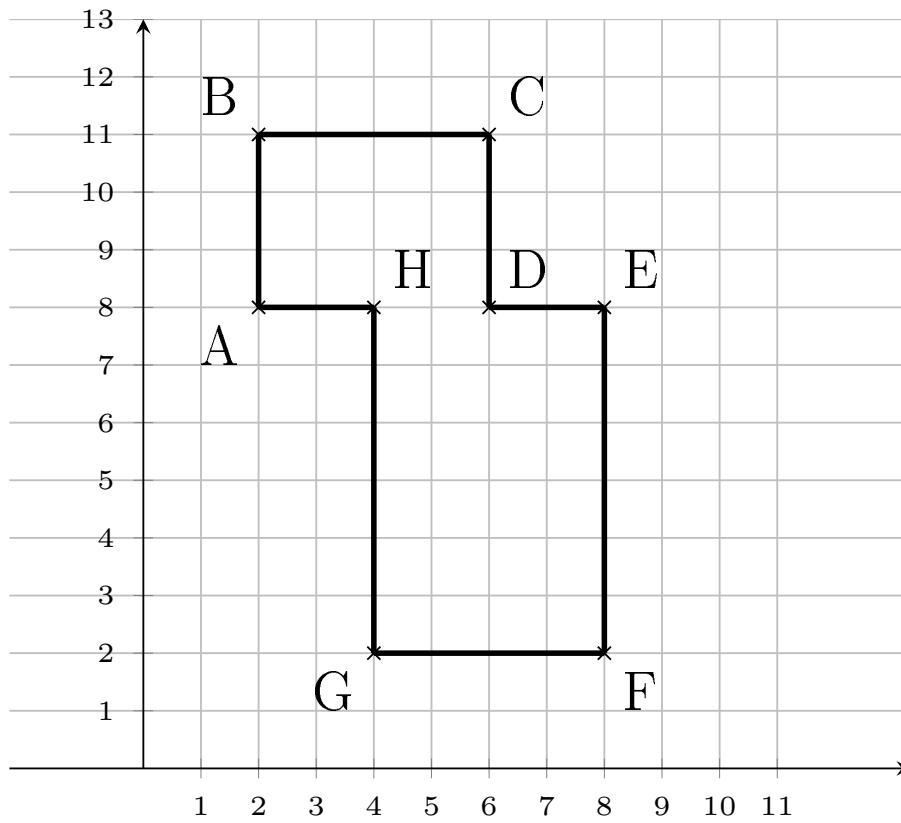
$A(-6|-7)$, $B(0|-7)$, $C(0|-3)$, $D(3|-3)$, $E(3|5)$, $F(-3|5)$, $G(-3|1)$, $H(-6|1)$

Aufgabe 4

Zeichne die Punkte in das Koordinatensystem ein. Verbinde die Punkte der Reihe nach

Quick:
7947

zu einer geschlossenen Figur.



A(2|8), B(2|11), C(6|11), D(6|8), E(8|8), F(8|2), G(4|2), H(4|8)

Viel Erfolg!